


Nome:




Números do 1 ao 100


Exercícios



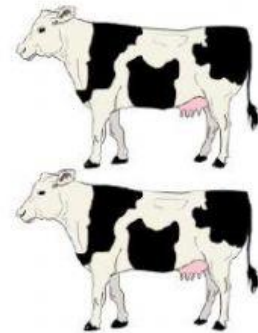
1 - Marque a alternativa que corresponde ao número de animais na figura, no seguinte problema: Rafael é um jovem fazendeiro e ganhou algumas vacas, cabras e cavalos do seu pai. A pergunta é quantas vacas, cavalos e cabras Rafael ganhou e qual é o total de todos esses animais ?



Cavalos






Cabras



Vacas

- a) São 7 cavalos, 2 cabras e 4 vacas, somando 13 animais;
- b) São 7 cavalos, 5 cabras e 2 vacas, somando 12 animais;
- c) São 7 cavalos, 4 cabras e 2 vacas, somando 13 animais;
- d) São 6 cavalos, 3 cabras e 2 vacas, somando 11 animais.

2 - Os porquinhos estão separado em cercados e não se sabe a quantidade certa. Conte quantos porquinhos tem em cada um dos cercados e ligue para a quantidade correta ao lado.



3 - Preencha a tabela com os números que faltam, seguindo a sequência correta.

50		52			55
56			59		61
	63		65		
	69				73
	75			78	
80			83		
	87		89		
		94		96	

