

Problemas

1.- Estoy preparando regalos para la Navidad y quiero comprar 5 videos y 6 libros. Si pago con 4 billetes de 50 euros, ¿Cuánto me han de devolver?



14 €
unidad.



18 €
unidad.

Me han de devolver

€

2.- Ayer, mi amiga Rebeca compró 5 regalos iguales para la fiesta del amigo invisible. Ha pagado con un billete de 100 euros y otro de 50 euros, y le han devuelto dinero. ¿Sabrías decir qué regalo ha elegido de los tres?.

He elegido el regalo de

€



3.- Hemos cortado cada pastel en 4 trozos iguales y han sobrado 6 trozos. Une las expresiones que representan el pastel que ha sobrado

$$\frac{6}{4}$$




$$\frac{4}{6}$$

$$1 + \frac{2}{4}$$

$$1 + \frac{1}{2}$$



4.- Quiero comprar estos productos en el Supermercado para celebrar una fiesta y he pensado en hacer un flan de pera. Tengo que rellenar la tabla con los ingredientes para 8, 12 y 16 personas y así conocer las cantidades.

				
flan de pera	peras	azúcar	harina	mantequilla
4 personas	5	100 g	125 g	150 g
8 personas				
12 personas				
16 personas				

5.- Ahora tengo que completar esta tabla de precios.

			
1 kg	48 euros	12 euros	8 euros
$\frac{1}{2}$ kg			
$\frac{1}{4}$ kg			
$\frac{3}{4}$ kg			