



<p>Ministerio de Educación</p> 	<p align="center">UNIDAD EDUCATIVA "ARUPOS" Educación a Distancia Régimen Sierra y Amazonía Resolución MINEDUC-2021-0005-R de 24 -11-2021</p>	
<p align="center">Instrumento de Evaluación Parcial 3 Año lectivo 2021-2022</p>		

EVALUACIÓN DIAGNÓSTICA

CIENCIAS NATURALES

NOMBRE:

GRADO:

PARALELO:

Instrucciones:

- ✓ Lea con atención.
- ✓ Observe el gráfico.
- ✓ Responda correctamente.

Recuerde que ...

El ciclo de vida es el proceso natural que rige la vida de todos los seres vivos desde que nacen hasta que mueren.

1. Una con una línea el gráfico con la etapa del ciclo de vida que corresponde.



Nacer

Crecer

Reproducir

Morir

Instrucciones:



- ✓ Lea con atención.
- ✓ Observe el gráfico.
- ✓ Responda correctamente.

Recuerde que ...

El ciclo de vida es el proceso natural que rige la vida de todos los seres vivos desde que nacen hasta que mueren.

2. Coloque números del 1 al 4 y ordene el crecimiento de las plantas.



<p>Ministerio de Educación</p> 	<p align="center">UNIDAD EDUCATIVA "ARUPOS" Educación a Distancia Régimen Sierra y Amazonía Resolución MINEDUC-2021-0005-R de 24 -11-2021</p> <p align="center">Instrumento de Evaluación Parcial 3 Año lectivo 2021-2022</p>	
--	--	---

Instrucciones:

- ✓ Lea con atención.
- ✓ Observe el gráfico.
- ✓ Responda correctamente.

Recuerde que...

El agua dulce está presente en la naturaleza en diferentes estados como puede observar en los gráficos a continuación.

3. Escriba de qué maneras se presenta el agua dulce en la naturaleza.











4. Lea y una formando oraciones que indican como cuidar el agua.

Instrucciones:

- ✓ Lea con atención.
- ✓ Observe el gráfico.
- ✓ Responda correctamente.

Recuerde que...

El agua es un recurso natural que lo debemos cuidar porque es vital para nuestra vida.

<p>Ministerio de Educación</p> 	<p>UNIDAD EDUCATIVA "ARUPOS" Educación a Distancia Régimen Sierra y Amazonía Resolución MINEDUC-2021-0005-R de 24 -11-2021</p> <p>Instrumento de Evaluación Parcial 3 Año lectivo 2021-2022</p>	
--	---	---



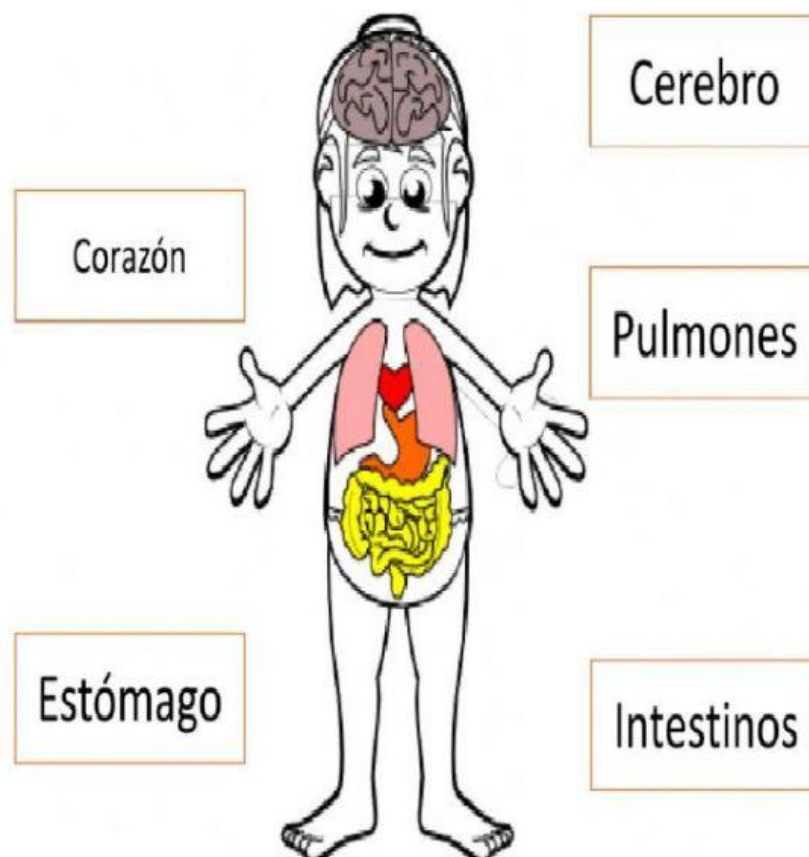
Instrucciones:



- ✓ Lea con atención.
- ✓ Observe el gráfico.
- ✓ Responda correctamente.

Recuerde que...

Los órganos vitales de nuestro cuerpo son importantes porque nos ayudan a realizar diferentes actividades para desarrollar nuestra vida.

5. Una con líneas los órganos vitales según corresponda.



<p>Ministerio de Educación</p> 	<p align="center">UNIDAD EDUCATIVA "ARUPOS" Educación a Distancia Régimen Sierra y Amazonía Resolución MINEDUC-2021-0005-R de 24 -11-2021</p> <p align="center">Instrumento de Evaluación Parcial 3 Año lectivo 2021-2022</p>	
--	---	---

Instrucciones:

- ✓ Lea con atención.
- ✓ Observe el gráfico.
- ✓ Responda correctamente.

Recuerde que...

Los órganos que permiten el movimiento del cuerpo nos ayudan a realizar actividades motoras

6. Una cada parte del cuerpo con la actividad que puede hacer.



Instrucciones:


- ✓ Lea con atención.
- ✓ Observe el gráfico.
- ✓ Responda correctamente.

Recuerde que...

Los alimentos se clasifican en saludables y no saludables porque promueven un desarrollo adecuado y un correcto desarrollo físico e intelectual contribuyendo a mantener una buena salud.

7. Clasifique los alimentos en la tabla según corresponda.

SALUDABLES	NO SALUDABLES





Instrucciones:

- ✓ Lea con atención.
- ✓ Observe el gráfico.
- ✓ Responda correctamente.

Recuerde que...

Debemos cuidar nuestra salud por la pandemia del COVID 19 recuerde qué normas sanitarias debemos practicar para protegernos.

8. Marque con una X las imágenes que debemos practicar para cuidarnos del COVID 19

<p>Ministerio de Educación</p> 	<p align="center">UNIDAD EDUCATIVA "ARUPOS" Educación a Distancia Régimen Sierra y Amazonía Resolución MINEDUC-2021-0005-R de 24 -11-2021 Instrumento de Evaluación Parcial 3 Año lectivo 2021-2022</p>	
--	---	---



Instrucciones:

- ✓ Lea con atención.
- ✓ Observe el gráfico.
- ✓ Responda correctamente.

Recuerde que...

Los alimentos deben ser manejados de manera adecuada, dé a conocer su punto de vista en los siguientes casos.

9. Responda SI o NO según el caso presente en cada imagen.






Instrucciones:





- ✓ Lea con atención.
- ✓ Observe el gráfico.
- ✓ Responda correctamente.

Recuerde que...

RECUERDA!

SÓLIDO	LÍQUIDO	GASEOSO
		

1. Escriba el estado en el que se encuentra según el gráfico indicado.

 <input type="text"/>	 <input type="text"/>	 <input type="text"/>
 <input type="text"/>	 <input type="text"/>	 <input type="text"/>
 <input type="text"/>	 <input type="text"/>	 <input type="text"/>