



PEMERINTAH KOTA PALEMBANG DINAS PENDIDIKAN
SEKOLAH DASAR NEGERI 226 PALEMBANG

TERAKREDITASI "A"

Alamat: Jl. Tegal Binangun Kelurahan Plaju Darat Kec. Plaju Email: Sdn226palembang@gmail.com Kota Palembang 30267

Nama :

No absen :

Hari / Tanggal :

Waktu : 90 Menit

Kelas : V (Lima)

Mata Pelajaran : Tema 2

PENILAIAN TENGAH SEMESTER (PTS) I
TAHUN PELAJARAN 2022/2023

PPKn

A. Berilah tanda silang (x) pada huruf a, b, c, dan d untuk jawaban yang paling benar!

1. Setiap hari Luna selalu sarapan nasi yang dilengkapi dengan sayur dan lauk pauk. Ia juga tidak lupa makan buah dan minum susu sebelum berangkat sekolah. Kebiasaan Luna mencerminkan tanggung jawab kepada diri sendiri dalam hal menjaga. . .
a. kesehatan c. kebersihan
b. keamanan d. Keharmonisan

B. Berilah tanda centang (✓) pada setiap jawaban yang tepat. (Jawaban bisa lebih dari satu)

Disajikan sebuah teks. Bacalah teks berikut (nomor 2-3)



Kerja bakti

Pada hari Minggu, warga di daerah tempat tinggal Edo mengadakan kerja bakti. Mereka membersihkan sampah-sampah yang menumpuk. Selama ini bau busuk dari tumpukan sampah telah mencemari udara di lingkungan tempat tinggal itu. Warga harus menutup hidung saat melewati tumpukan sampah yang membusuk itu.

Sebelum melakukan kerja bakti, seminggu sebelumnya warga bermusyawarah untuk mencari pemecahan dari masalah sampah. Selain menggunung dan berbau busuk, kadang-kadang tempat sampah itu terlihat berantakan karena ada beberapa orang yang berusaha mencari botol-botol bekas untuk didaur ulang. Akibatnya, pemandangan dan udara di lingkungan sekitar tempat sampah jadi kotor dan bau.

Setelah bermusyawarah, warga mendapat sebuah penyelesaian. Warga akan menyiapkan dua macam tempat sampah. Satu tempat sampah untuk menampung sampah-sampah yang dapat didaur ulang seperti kertas dan botol-botol bekas. Tempat sampah lainnya digunakan untuk menampung sampah-sampah yang dapat membusuk, misalnya dedaunan dan sisa-sisa sayur. Selanjutnya sampah-sampah yang dapat membusuk itu akan diolah menjadi pupuk kompos yang dapat digunakan warga untuk memupuk tanaman.

Dalam kegiatan musyawarah dan kerja bakti itu seluruh warga ikut berperan serta. Keikutsertaan warga dalam musyawarah dan kerja bakti merupakan salah satu bentuk tanggung jawab warga dalam menjaga kebersihan lingkungan.

2. Permasalahan-permasalahan yang dihadapi warga mengenai sampah

- ☐ Sampah menimbulkan bau busuk
- ☐ Pemandangan sekitar lingkungan menjadi indah dan rapi
- ☐ Pemandangan sekitar mejadi kotor dan bau
- ☐ Tempat sampah terlihat berantakan

3. Bentuk tanggung jawab warga dalam menjaga kebersihan lingkungan

- ☐ Keikutsertaan warga dalam musyawarah
- ☐ Ikut melaksanakan ronda malam

- ☐ Ikut kegiatan kerja bakti
☐ Keikutsertaan warga dalam membuang sampah sembarangan

4. **Pasangkanlah dengan cara menarik garis sesuai dengan bentuk tanggung jawab**

Tanggung jawab di rumah



Tanggung jawab di sekolah



Tanggung jawab di masyarakat



C. **Isilah titik-titik di bawah ini dengan tepat!**

5. Keikutsertaan warga dalam musyawarah dan kerja bakti merupakan salah satu bentuk ... warga dalam menjaga kebersihan lingkungan.
 6. Kegiatan pembahasan bersama dengan maksud mencapai keputusan atas penyelesaian masalah disebut ...

D. **Jawablah pertanyaan di bawah ini secara tepat dan benar!**

7. Tuliskan tiga tanggung jawab kepada bangsa dan negara!

Bahasa Indonesia

A. **Berilah tanda silang (x) pada huruf a, b, c, dan d untuk jawaban yang paling benar!**

8. Perhatikan kalimat berikut.
 Tanaman semak dengan tinggi 15-40 cm bisa menjadi penghias rumah.
 Kalimat tanya yang sesuai dengan kalimat tersebut adalah ...
 a. Di mana seharusnya tanaman semak ditanam?
 b. Tanaman apayang dapat dijadikan penghias rumah?
 c. Bagaimana cara menanam tanaman semak di rumah?
 d. Siapa yang dapat menanam tanaman di sekitar rumah?
 9. perlu dilakukan upaya reboisasi?
 Kata tanya yang tepat untuk melengkapi kalimat tanya rumpang tersebut adalah
 a. apa c. mengapa
 b. siapa d. Bagaimana
 10. Perhatikan percakapan berikut.

Ima : "Mengapa warga Desa Pucung tidak menyewa tenaga ahli saat memperbaiki jembatan di desa mereka?"

Anin : "Warga Desa Pucung tidak menyewa tenaga ahli saat memperbaiki jembatan dapat menghemat biaya."

Kalimat jawaban rumpang tersebut dapat dilengkapi dengan kata ...

- a. agar c. untuk
 b. demi d. Karena

B. **Berilah tanda centang (✓) pada setiap jawaban yang tepat. (Jawaban bisa lebih dari satu)**

Disediakan sebuah teks berjudul "Hari Menanam Pohon". Bacalah teks berikut, kemudian jawablah pertanyaan nya.
 (nomor 10-16)

Hari Menanam Pohon

Indonesia dikatakan sebagai paru-paru dunia. Sebutan itu disematkan karena di Indonesia terdapat hutan yang sangat luas. Daun-daun di hutan mengeluarkan oksigen berlimpah. Oksigen merupakan unsur penting bagi kehidupan.

Namun, sayangnya, hutan kita semakin berkurang akibat kebakaran atau penebangan pohon di hutan secara liar. Oleh karena itu, pemerintah bersama rakyat berusaha mengurangi kerusakan hutan. Salah satu upaya yang dilakukan yaitu menanam kembali pohon di lingkungan.



Gesken menanam pohon

Tanggal 28 November diperingati sebagai Hari Menanam Pohon. Peringatan hari Menanam Pohon pada tahun 2015 diawali sejak tanggal 26 November. Presiden melakukan penanaman pohon di Taman Hutan Rakyat Sultan Adam, Kalimantan Selatan. Ada 10.000 pohon ditanam di hutan itu. Pohon yang ditanam pun bermacam-macam, termasuk pohon-pohon yang buahnya dapat dimakan.

Kita dapat berperan serta untuk mengembalikan paru-paru dunia. Menanam pohon tidak hanya dapat dilakukan di hutan. Kita dapat menanam pohon di lingkungan sekitar kita. Semakin banyak pohon di lingkungan kita, semakin banyak pasokan oksigen bagi kehidupan.

Sumber: <http://foto.kidnesia.com>, diunduh 4 Desember 2015

11. Penyebab hutan kita semakin berkurang

- ☐ Penebangan hutan secara liar
- ☐ Penanaman kembali pohon di lingkungan
- ☐ Kebakaran hutan
- ☐ Perawatan hutan

12. Manfaat menanam pohon kembali di lingkungan dan di hutan

- ☐ Banyaknya pasokan oksigen bagi kehidupan
- ☐ Mengurangi kerusakan hutan
- ☐ Mengurangi banjir
- ☐ Menambah keindahan

C. Tariklah garis untuk menjodohkan pertanyaan di sebelah kiri dengan jawaban yang tepat di sebelah kanan.

13.

Kata tanya	Jawaban dari kata tanya
Apa ○	○ Tanggal 28 November di peringati sebagai Hari Menanam Pohon
Dimana ○	○ Upaya yang dilakukan yaitu menanam kembali pohon di lingkungan
Kapan ○	○ Di Taman Hutan Rakyat, Sultan Adam, Kalimantan Selatan

D. Isilah titik-titik di bawah ini dengan tepat!

14. “Yang melakukan penanaman pohon di Taman Hutan Rakyat, Sultan Adam, Kalimantan Selatan adalah Presiden”.

Kata tanya yang sesuai untuk jawaban pertanyaan tersebut adalah ...

15. “Peringatan Hari Menanam Pohon pada tahun 2015 diawali sejak tanggal 26 November.”

Kata tanya yang sesuai untuk jawaban pertanyaan tersebut adalah ...

E. Jawablah pertanyaan di bawah ini secara tepat dan benar!

16. Berdasarkan teks diatas, buatlah satu pertanyaan beserta jawabannya dengan menggunakan kata tanya “Mengapa”.

IPA

A. Berilah tanda silang (x) pada huruf a, b, c, dan d untuk jawaban yang paling benar!

17. Tindakan berikut yang dapat meningkatkan kapasitas paru-paru adalah ...

- a. mengonsumsi makanan bergizi
- b. beristirahat dengan cukup
- c. berolahraga secara rutin
- d. Mengurangi aktivitas

18. Fungsi rambut halus dan selaput lendir didalam rongga hidung yaitu untuk. ...

- a. mengikat oksigen
- b. menyimpan udara
- c. menyaring udara
- d. menghangatkan udara

B. Berilah tanda centang (✓) pada setiap jawaban yang tepat. (Jawaban bisa lebih dari satu)

19. Faktor-faktor penyebab gangguan pernapasan manusia




- ☐ Faktor fisik
- ☐ Faktor keturunan
- ☐ Faktor penyakit
- ☐ Faktor lingkungan

20. Cara-cara memelihara organ pernapasan manusia

- ☐ makan makanan bergizi agar daya tahan tubuh terjaga baik
- ☐ menggosok gigi setiap 3 kali dalam sehari
- ☐ membersihkan rongga hidung secara teratur
- ☐ tidak merokok dan menghindari paparan asap rokok

C. Tariklah garis untuk menjodohkan pertanyaan di sebelah kiri dengan jawaban yang tepat di sebelah kanan

21.

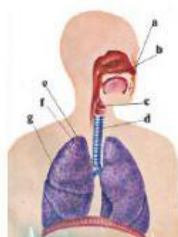
Alat Pernapasan		Hewan
Permukaan kulit <input type="radio"/>	<input type="radio"/>	
Trakea <input type="radio"/>	<input type="radio"/>	
Insang <input type="radio"/>	<input type="radio"/>	

D. Isilah titik-titik di bawah ini dengan tepat!

22. Otot yang berperan dalam pernapasan dada adalah . . .

E. Jawablah pertanyaan di bawah ini secara tepat dan benar!

23. Disajikan sebuah gambar organ pernapasan manusia.



Lengkapilah gambar organ pernapasan manusia diatas!

IPS

A. Berilah tanda silang (x) pada huruf a, b, c, dan d untuk jawaban yang paling benar!

24. Selain ketersediaan lahan, perkembangan kegiatan agraris di Indonesia di dukung oleh faktor

- a. iklim
- b. jumlah penduduk
- c. luas wilayah
- d. kepadatan penduduk

25. Kegiatan produksi berperan dalam memproduksi barang. Kegiatan produksi dapat meningkatkan kesejahteraan masyarakat karena

- a. meningkatkan devisa negara
- b. membeli bahan baku dari distributor
- c. membutuhkan tenaga kerja
- d. menyalurkan barang kepada konsumen

B. Berilah tanda centang (✓) pada setiap jawaban yang tepat. (Jawaban bisa lebih dari satu)

26. Jenis-jenis usaha ekonomi masyarakat di lihat dari kondisi geografis

- ☐ Agraris
- ☐ Produksi
- ☐ Pertambangan
- ☐ Pertanian

27. Cara-cara menghargai kegiatan usaha ekonomi orang lain

- ☐ Menghormati usaha ekonomi orang lain dengan tidak iri atas keberhasilannya.
- ☐ Menjunjung tinggi setiap jenis pekerjaan yang dilakukan orang lain
- ☐ Menumbuhkan persaingan usaha yang tidak sehat dalam kegiatan per ekonomian.
- ☐ Meneladani keberhasilan orang lain dengan meniru sikap positif orang tersebut

C. Tariklah garis untuk menjodohkan pertanyaan di sebelah kiri dengan jawaban yang tepat di sebelah kanan

28.

Kegiatan Ekonomi	Penjelasan
Produksi <input type="radio"/>	<input type="radio"/> kegiatan menghabiskan atau mengurangi nilai guna barang dan jasa untuk memenuhi kebutuhan hidup.
Distribusi <input type="radio"/>	<input type="radio"/> kegiatan menghasilkan barang dalam rangka memenuhi kebutuhan hidup
Konsumsi <input type="radio"/>	<input type="radio"/> kegiatan menyalurkan hasil produksi dari produsen ke konsumen

D. Isilah titik-titik di bawah ini dengan tepat!

29. Kegiatan perikanan tangkap biasa dilakukan oleh masyarakat yang tinggal di wilayah . . .

E. Jawablah pertanyaan di bawah ini secara tepat dan benar!

30. Jelaskan pengaruh kegiatan ekonomi terhadap kesejahteraan masyarakat!

SBdP

A. Berilah tanda silang (x) pada huruf a, b, c, dan d untuk jawaban yang paling benar!

31. Urutan tangga nada mayor diawali dengan nada....

- a. re b. sol c. si d. Do



B. Berilah tanda centang (✓) pada setiap jawaban yang tepat. (Jawaban bisa lebih dari satu)

32. Langkah-langkah pembuatan gambar bercerita

- ☐ Persiapan Bahan dan Alat
☐ Pembuatan Sketsa
☐ Pembuatan Denah
☐ Penyempurnaan Gambar

C. Tariklah garis untuk menjodohkan pertanyaan di sebelah kiri dengan jawaban yang tepat di sebelah kanan

33.

Tangga Nada	Contoh lagu
Diatonis mayor <input type="radio"/>	<input type="radio"/> <i>Ampar-ampar Pisang</i> 
Diatonis minor <input type="radio"/>	<input type="radio"/> <i>Mengheningkan Cipta</i> 

D. Isilah titik-titik di bawah ini dengan tepat!

34. Menentukan objek utama pada cergam dapat berupa, benda mati dan benda . . .

E. Jawablah pertanyaan di bawah ini secara tepat dan benar!

35. perhatikan lirik lagu daerah berikut.”

ANAK KAMBING SAYA

do = c $\frac{4}{4}$ Sedang										Timor									
1	1	1	1	1	.	7	6	1	7	6	5	.	5						
Ma	na	di	ma	na	.	a	nak	kambing	sa	ya?	A-								
2	2	2	2	2	1	2	3	4	3	2	1	.							
nak	kambing	tu	an	a	da	di	po	hon	wa	ru!									
1	1	1	1	1	.	7	6	1	7	6	5	.	5						
Ma	na	di	ma	na	.	jan	tung	ha	ti	sa	ya?	Jan							
2	2	2	2	2	1	2	3	4	3	2	1	.							
tung	ha	ti	tu	an	a	da	di	Kampung	ba	ru!									

Dari lirik lagu di atas, termasuk jenis tangga nada apa lagu daerah di atas? Kemudian jelaskan ciri-ciri tangga nada tersebut.