

Problemas de comparación de

Números decimales



NOMBRE DEL ESTUDIANTE: _____

FECHA: _____

- Observa la situación, ubica en la siguiente tabla de posición los pesos de cada niño. Luego, responde las preguntas




C	D	U	,	d	c	m

- ¿Cuál de los niños tiene mayor peso?
- ¿Cuál de los niños tiene menor peso?
- ¿Cuál es el orden de los niños del menor peso al de mayor peso?

_____ < _____ < _____ < _____

- Observa y lee la situación.
Luego, responde la pregunta

MARÍA VA A COMPRAR UNA RAQUETA Y ESTAS SON LAS DOS QUE MÁS LE GUSTAN.



- ¿Cuál es el color de la raqueta más barata?

- ♣ Resuelve, a partir de la información. Luego, selecciona la respuesta correcta

Lugar	Pasto	Bogotá	Manizales	Tunja
Mínima	6,5 °C	6,8 °C	13,1 °C	4,5 °C
Máxima	17,9 °C	19,7 °C	22,5 °C	17,6 °C


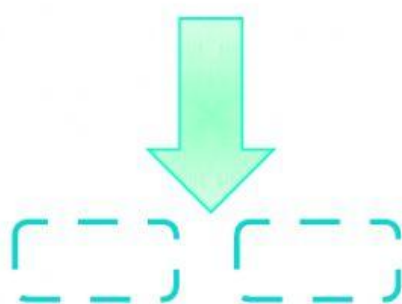
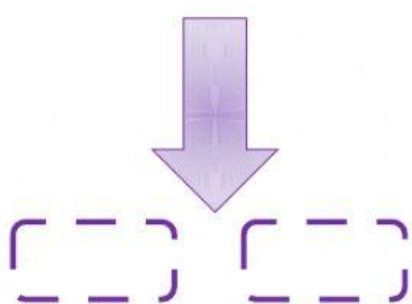
- ¿Qué lugar tuvo la temperatura máxima más alta?

- ¿Qué lugar tuvo la temperatura mínima más baja?

- Andrés quiere ir a un sitio en el que la temperatura máxima no supere los 17,8 °C, ¿a cuál lugar debe ir?

- Pedro quiere ir a un sitio en el que la temperatura mínima esté por encima de los 6,4 °C, ¿a dónde no debe ir?

- ♣ ¿EN QUÉ CAJA PONDRÁ EMANUEL CADA CAMISETA SEGÚN SU PRECIO?



¡¡ LO LOGRASTE, FELICITACIONES!!

