



PEMERINTAH KABUPATEN PANDEGLANG
DINAS PENDIDIKAN, KEPEMUDAAN DAN OLAH RAGA
SD NEGERI SORONGAN 1
KECAMATAN CIBALIUNG



Alamat : Jalan Raya Curug-Sorongan Km. 07 Desa Sorongan Kec. Cibaliung 42285


I. Berikan tanda silang (x) pada jawaban yang benar !

- Sikap dalam kehidupan sehari-hari yang sesuai dengan pancasila sila pertama adalah
 - Kebebasan beragama
 - Saling tolong menolong
 - Bermusyawarah
 - Keseimbangan hak dan kewajiban
- Gotong royong termasuk pengamalan dari sila ke

 - 1
 - 2
 - 3
 - 4

-

Prinsip-prinsip gotong royong sangat bermanfaat bagi pelaksanaan pembangunan nasional. Karena semua masyarakat merasa saling memiliki. Masyarakat juga merasa mempunyai tujuan yang sama, yakni terwujudnya kehidupan yang sejahtera. Dengan bergotong royong, segala program pembangunan yang dicanangkan oleh pemerintah akan dapat dilaksanakan dengan baik tanpa adanya gangguan yang disebabkan oleh ketidakharmonisan masyarakat.



F

Ide pokok paragraf diatas adalah

- Prinsip gotong royong
 - Kehidupan sejahtera
 - Pembangunan yang baik
 - Masyarakat yang harmonis
-

Organ gerak pada hewan dan manusia memiliki kesamaan. Alat-alat gerak yang digunakan pada manusia dan hewan ada dua macam, yaitu alat gerak pasif berupa tulang dan alat gerak aktif berupa otot. Kedua alat gerak ini akan bekerja sama dalam melakukan pergerakan. Kerja sama antara kedua alat gerak tersebut membentuk suatu sistem yang disebut sistem gerak.

Tuliskan ide pokok pada paragraf diatas !

- a. Kesamaan orga gerak hewan dan manusia
 - b. Dua macam alat gerak
 - c. Alat gerak pasif dan alat gerak aktif
 - d. sistem gerak pada hewan dan manusia
5. Salah satu contoh mata pencaharian di daerah pesisir pantai adalah
- a. Petani
 - b. Nelayan
 - c. Peternakan
 - d. Perkebunan
6. Mata pencaharian di daerah pegunungan yaitu
- a. Perkebunan teh
 - b. Penanaman padi
 - c. Penanaman jagung
 - d. Peternakan ayam
7. Macam gerak otot ada dua yaitu
- a. Gerak otot aktif dan pasif
 - b. Gerak otot depan dan belakang
 - c. Gerak otot primer dan sekunder
 - d. Gerak otot sadar dan tidak sadar
8. Yang bukan merupakan kelainan pada tulang manusia adalah
- a. Lordosis
 - b. Skoliosis
 - c. Oerosis
 - d. Kifosis
9. Kelainan otot yang membesar dan menjadi lebih kuat karena sel otot diberikan kegiatan/aktivitas yang terus-menerus secara berlebihan disebut
- a. Atrofi
 - b. Hipertrofi
 - c. Stiff
 - d. Tetanus
10. Kebebasan memeluk agama merupakan pengamalan Pancasila sila
- a. 1
 - b. 2
 - c. 3
 - d. 4
11. Yang bukan termasuk dalam permasalahan tri kerukukan umat beragama yaitu
- a. Pendirian Rumah Ibadah
 - b. Penyiaran Agama.
 - c. Bantuan Keagamaan dari Luar Negeri.
 - d. Ideologi keagamaan
12. Perilaku yang melanggar nilai pancasila
- a. Mentaati peraturan agama
 - b. Menolong sesama teman
 - c. Bersikap individualisme
 - d. Gotong royong
13. Perhatikan paragraf berikut !

Kerukunan umat beragama sangat penting bagi bangsa Indonesia untuk mencapai kesejahteraan hidup. Seperti yang telah kita ketahui bahwa Indonesia memiliki keragaman yang begitu banyak, salah satunya adalah agama. Meskipun mayoritas penduduk Indonesia memeluk agama Islam, namun ada beberapa agama lain yang juga dianut, yakni Buddha, Hindu, Kristen, Katholik, dan Konghucu. Setiap agama tentunya memiliki aturan masing-masing dalam menjalankan ajaran agamanya. Namun, perbedaan ini bukanlah alasan menjadi pemecah belah, namun justru menjadi pemersatu dan memperkaya nilai-nilai dalam masyarakat. Sebagai satu saudara dalam tanah air yang sama, kita harus menjaga kerukunan umat beragama agar bangsa dan negara kita tetap menjadi satu kesatuan yang utuh.

Apa ide pokok dari paragraf diatas?

- | | |
|--|--|
| a. Kerukunan umat beragama sangat penting bagi bangsa Indonesia | c. Agama dianut, yakni Buddha, Hindu, Kristen, Katholik, dan Konghucu |
| b. Indonesia memiliki keragaman yang begitu banyak, salah satunya adalah agama | d. perbedaan ini bukanlah alasan menjadi pemecah belah, namun justru menjadi pemersatu |

14. Paragraf yang baik adalah paragraf yang terdiri atas satu kalimat topik dan beberapa

- | | |
|-----------------------|-----------------------|
| a. Kalimat utama | c. Kalimat keterangan |
| b. Kalimat pengembang | d. Kalimat penghubung |

15.



Gambar diatas merupakan kenampakan alam

- | | |
|-----------|-------------------|
| a. Gunung | c. Dataran rendah |
| b. Bukit | d. Dataran tinggi |

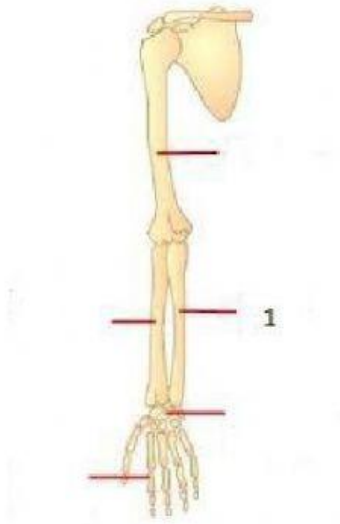
16. Mata pencahariaan di dataran rendah adalah

- | | |
|---------------------------|-----------------|
| a. Perkebunan teh | c. Petani garam |
| b. Pertambakan ikan tawar | d. Nelayan |

17. Gerakan massa udara yang terjadi karena karena adanya perbedaan tekanan udara yang begitu besar yaitu antara daratan dan lautan, atau bisa dibilang antara benua dan samudra, disebut

- | | |
|-----------------|------------------|
| a. Angin panas | c. Angin musiman |
| b. Angin tropis | d. Angin Muson |

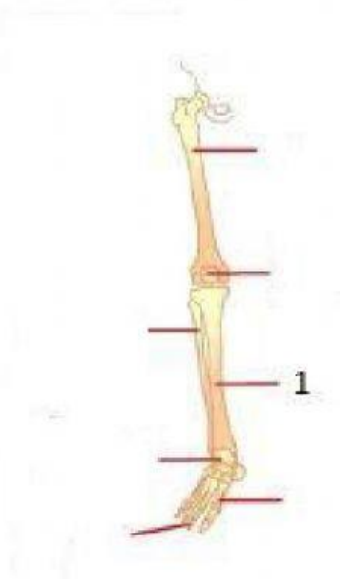
18.



Tulang yang ditunjukkan no 1 adalah

- a. Tulang pengumpil
- b. Tulang hasta
- c. Tulang tangan
- d. Tulang lengan

19.



Tulang yang ditunjukkan no 1 adalah

- a. Tulang betis
- b. Tulang kering
- c. Tulang paha
- d. Tulang kaki

20. Otot polos dipengaruhi oleh saraf otonom (saraf tak sadar) sehingga kontraksinya tak sadar (otot involunter), gerakannya tidak cepat lelah, dan reaksi terhadap rangsangan lambat adalah

- a. Otot polos
- b. Otot lurik
- c. Otot jantung
- d. Otot leher

II. Jawablah pertanyaan berikut dengan tepat !

1.



Gambar diatas merupakan pengamalan pancasila sila ke

2. Perhatikan paragraf berikut !

Hasil laut seperti karang, teripang, dan kepiting merupakan komoditas ekspor. Oleh karena itu, para nelayan kita harus pandai-pandai dalam membudidayakan dan memanen hasil laut tersebut, jangan sampai komoditas hasil laut dari luar negeri masuk ke Indonesia. Para generasi muda hendaknya ikut memikirkan pembangunan kelautan. Janganlah berpandangan bahwa laut adalah sesuatu yang menakutkan, tetapi harus sebaliknya, laut merupakan sahabat.

Gagasan utama paragraf tersebut adalah

3. Perhatikan paragraph berikut !

Indonesia sangat kaya dengan keragaman flora dan fauna. Keanekaragaman hayati Indonesia bahkan termasuk tiga besar dunia bersama dengan Brazil di Amerika Selatan dan Zaire di Afrika. Jumlah spesies tumbuhan di Indonesia mencapai 8 ribu spesies yang sudah teridentifikasi dan jumlah spesies hewan mencapai 2.215. Terdiri atas burung, reptil, mamalia, dan kupu-kupu.

Apa ide pokok paragraf diatas

4. Jelaskan pengaruh kondisi geografis indonesia terhadap kehidupan ekonomi masyarakat!

5. Jelaskan kelainan pada otot manusia

6. Sebutkan bentuk pengamalan sila kelima dalam kehidupan sehari-hari

7. Tuliskan ide pokok dari paragraf dibawah ini!

Jadi, siput bukanlah hewan yang lemah. Siput adalah hewan istimewa yang memiliki banyak kelebihan. Siput diciptakan Tuhan dengan kekurangan sekaligus dengan kelebihan. Begitu juga dengan manusia, diciptakan Tuhan dengan kelebihan dan kekurangan. Oleh karena itu kamu tidak boleh menyombongkan diri dengan kelebihan yang kamu miliki. Kamu juga jangan minder jika kamu kekurangan.

8. *Siput memiliki pertahanan diri yang baik dalam beradaptasi dengan lingkungan dan mempertahankan diri dari serangan predator. Meskipun tubuhnya lunak, namun tubuh siput memiliki lendir. Lendir ini berfungsi sebagai minyak pelumas dan pelindung bagi tubuhnya ketika berjalan di permukaan. Jalan sekasar apa pun dan setajal apa pun akan mudah dilalui tanpa tubuhnya terluka. Selain itu siput juga dikaruniai Tuhan dengan cangkang. Cangkang ini berfungsi sebagai rumah yang memberikan kenyamanan dan keamanan bagi tubuhnya. Cangkang juga berfungsi sebagai tempat persembunyian ketika ia terancam oleh lingkungan atau predator. Meski terik panas atau pun hujan, siput tetap bisa hidup nyaman dan aman dengan cangkangnya. Predator pun akan kebingungan untuk memangsa siput, karena tubuhnya terlindungi oleh cangkang yang keras.*

Ide pokok dalam paragraf diatas adalah

9. Bagaimana keadaan iklim di Indonesia?
10. Jelaskan macam-macam otot pada manusia!

