



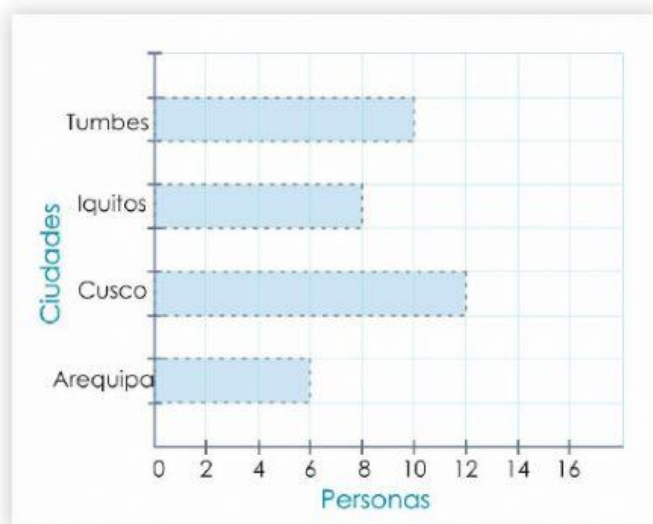
# Evaluación

Nota:

Apellidos y Nombres:

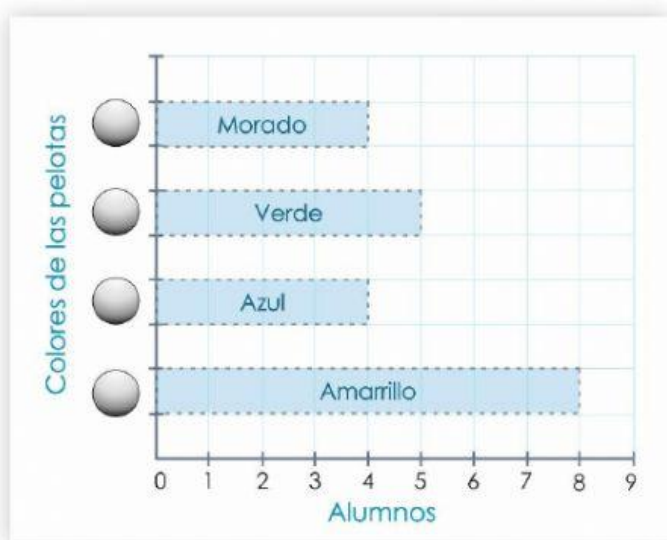
Día: Mes: Año:

1. **Observa** el grafico de barras horizontales sobre las preferencias de algunas personas por ciertos lugares turísticos. **Luego**, escribe en los espacios la respuesta correcta:



- ¿Cuántas personas fueron encuestadas?  
\_\_\_\_\_
- ¿Cuántas personas prefieren ir a Tumbes?  
\_\_\_\_\_
- ¿Cuántas personas prefieren ir a Iquitos?  
\_\_\_\_\_
- ¿Cuál es el lugar que menos prefieren visitar?  
\_\_\_\_\_

2. En el colegio "La casa de los Dinosaurios" se realizó una encuesta a los alumnos de primer grado sobre su preferencia por colores de pelotas. Estos fueron los resultados:

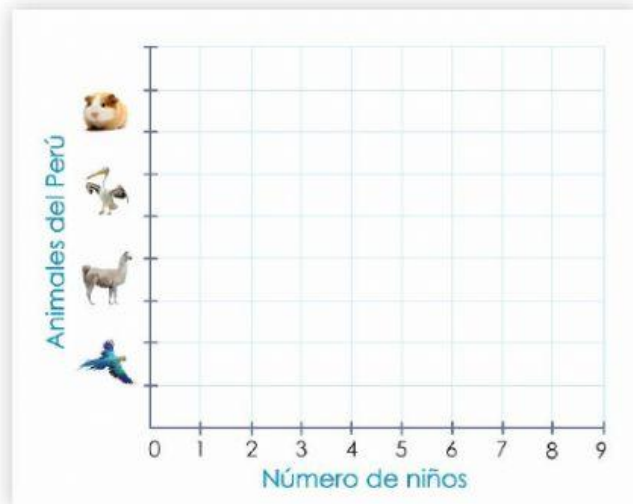


- ¿Cuántos niños fueron encuestados?  
\_\_\_\_\_
- ¿Cuántos niños juegan con pelotas azules?  
\_\_\_\_\_
- ¿Cuántos niños juegan con pelotas verdes y moradas?  
\_\_\_\_\_
- ¿Cuál es el color más preferido por los niños?  
\_\_\_\_\_
- ¿Cuál es el color menos preferido por los niños?  
\_\_\_\_\_

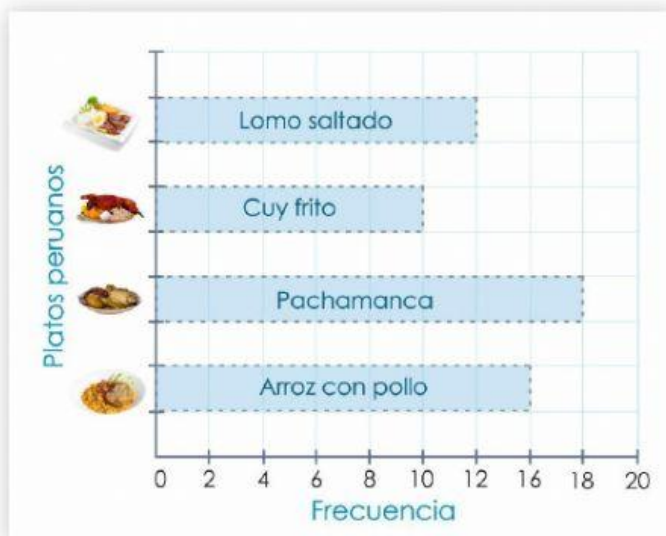
3. La profesora encuestó a los niños acerca de los animales oriundos del Perú, para su exposición.

Observa la tabla y selecciona los cuadrados según los datos en el gráfico de barras horizontales.

Animales	Frecuencia
Llama	6
Pelicano	4
Papagayo	8
Cuy	5



4. Observa el gráfico de barras horizontales sobre las preferencias de algunas personas por ciertos lugares turísticos. Luego, escribe en los espacios la respuesta correcta



1. ¿Cuál es el plato de mayor preferencia?  
\_\_\_\_\_
2. ¿Cuál es el plato menos preferido?  
\_\_\_\_\_
3. ¿Cuántos prefieren arroz con pollo?  
\_\_\_\_\_
4. ¿Cuántas personas fueron encuestadas?  
\_\_\_\_\_