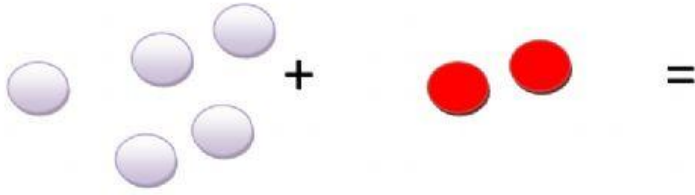
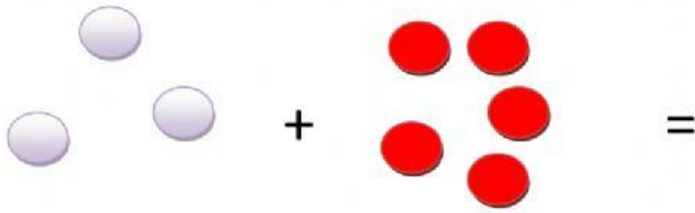


ESCRIBE EL RESULTADO DE LA SUMA CON NÚMEROS. USA LAS BOLAS PARA AYUDARTE A SABER CUÁL ES EL TOTAL.



$$5 + 2 =$$




$$3 + 5 =$$

ESCRIBE EN LOS CUADRADOS LOS NÚMEROS DE BOLAS QUE APARECEN, PARA HACER LA SUMA Y DESPUÉS EL NÚMERO TOTAL DE BOLAS. USA LAS BOLAS PARA AYUDARTE A SABER CUÁL ES EL



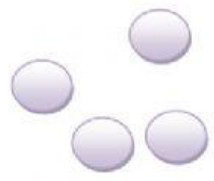
+



=

+

=



+



=

+

=