

PRACTICA CALIFICADA

Nombre y apellido: _____

1 Relaciona cada instrucción con su función.

apuntar en dirección 0° ☐

apuntar en dirección 180° ☐

apuntar en dirección -90° ☐

apuntar en dirección 90° ☐

Apunta a la derecha ☐

Apunta hacia abajo ☐


Apunta a la izquierda ☐

Apunta hacia arriba ☐


2 Escriba V o F según corresponda.

La posición central en el escenario de un objeto es 0,0.	
La instrucción mover -10 pasos permite avanzar.	
Para finalizar la ejecución del programa utilizamos la bandera verde.	
La instrucción si, determina si una condición es cierta o falsa.	
Es posible controlar el movimiento de un objeto utilizando el teclado.	


3 Indique que acción realiza cada instrucción.



girar 45 grados

al presionar 

ir a x: 100 y: 50

al presionar tecla 

mover 10 pasos