

# LEMBAR KEGIATAN PESERTA DIDIK (LKPD)



**Tema** : 3. Makanan Sehat  
**Sub tema** : 1. Bagaimana Tubuh Mengolah Makanan  
**Pembelajaran** : 1  
**Kelas/ Semester** : V/ 1 (Ganjil)  
**Alokasi waktu** : 35 menit  
**Hari/Tanggal** : Jum'at/ 16 September 2022

**Nama Kelompok** : .....

**Nama Anggota Kelompok** :

1. ....

2. ....

3. ....

4. ....

5. ....

6. ....

## KEGIATAN 2

### A. JUDUL

Organ Pencernaan pada Hewan Ruminansia

### B. TUJUAN

- Dengan berdiskusi secara berkelompok, peserta didik dapat melengkapi nama organ hewan ruminansia pada kotak dan mengisi bagan alur pencernaan hewan ruminansia dengan benar.
- Dengan mengamati secara berkelompok, peserta didik dapat membuat poster hewan ruminansia dengan memberi nama disertai garis alur pencernaannya dengan rapih

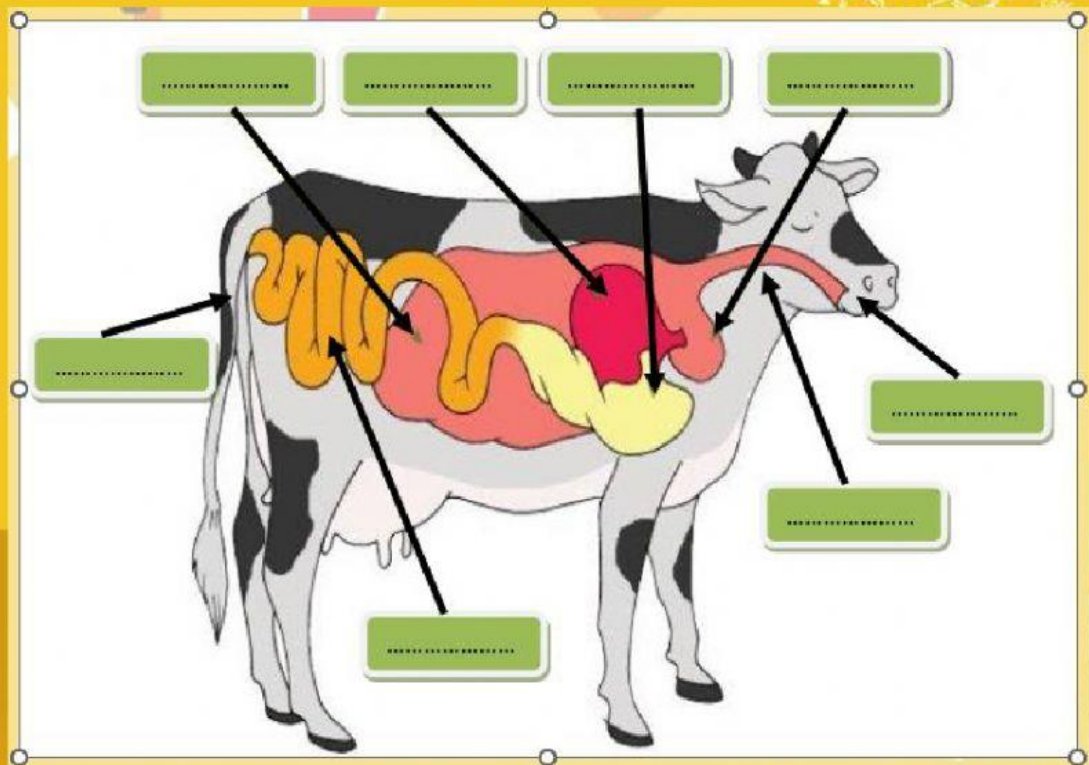
### C. KEGIATAN PESERTA DIDIK

Petunjuk :

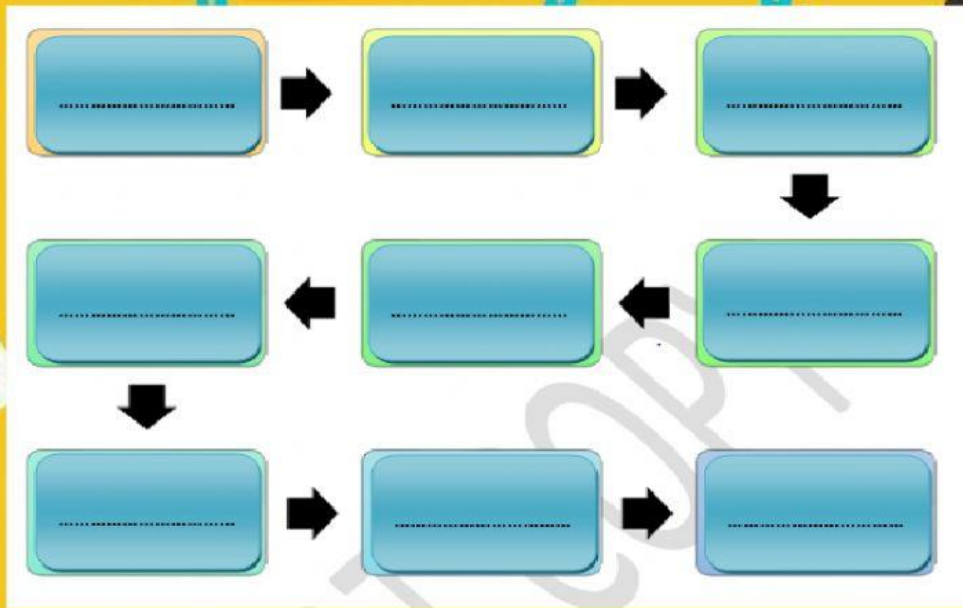
- Masing-masing kelompok mendapatkan 1 chromebook. Perhatikan LKPD yang dibagikan oleh gurumu melalui link *Live Worksheet*.
- Amati dan cermati gambar hewan Ruminansia (nomor 1), lengkapi kotak yang berisi titik-titik.
- Isilah bagan alur/ sistem pencernaan hewan Ruminansi secara berurutan (nomor 2)
- Bualah poster hewan ruminansia dan berikan nama serta alur pencernaannya!

### D. TUGAS

1. Melengkapi kotak dan membuat garis panah alur pencernaan hewan Ruminansia

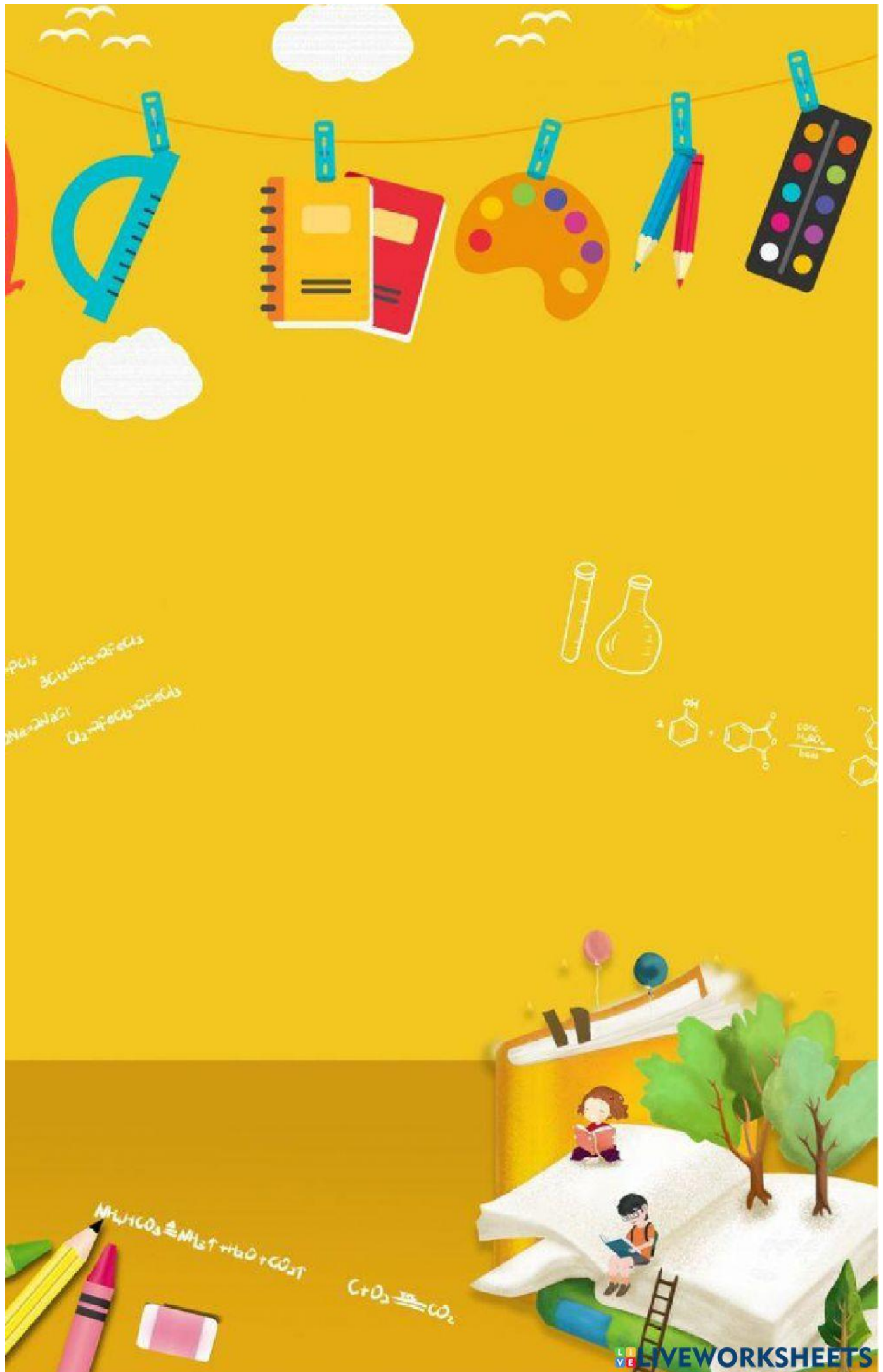


2. Melengkapi bagan alur pencernaan Ruminansi.



3. Bualah poster hewan ruminansia seperti gambar di bawah dan berikan nama serta alur pencernaannya!





$PCl_5$   
 $3Cl_2 + 2Fe \rightarrow 2FeCl_3$   
 $2Na + 2HCl \rightarrow 2NaCl + H_2$   
 $O_2 \rightarrow 2FeCl_3 + 2FeCl_2$

