

# PRUEBA ESCRITA DE SOCIALES

## EL TIEMPO PASA



1 Indica si estas afirmaciones son verdaderas(v) o falsas(f).

A. Tu nacimiento es un hecho que ocurrió en el futuro..... ☐

B. El pasado está compuesto por los hechos que nos van a ocurrir esta tarde..... ☐


C. Lo que ocurre en este instante es el presente, y después se convierte en pasado..... ☐

D. El futuro está compuesto por los hechos que nos ocurrirán en nuestra vida..... ☐


2 Observa estas tres imágenes y selecciona a qué tipo de fuente histórica representan.




3 Ordena las edades de la historia en la línea del tiempo.



Edad Antigua



Edad Media



Prehistoria



Edad Contemporánea



Edad Moderna

4

**Completa la siguiente tabla**

Lustro

equivale a.....

Década

Siglo

Milenio

5

**Une con flechas.**

El calendario

mide los segundos, los minutos y las horas.

Las edades de la historia son:

mide los días de la semana, los meses y los años.

Las fuentes históricas

Prehistoria, Edad Antigua, Edad Media, Edad Moderna y Edad Contemporánea.

El reloj

proporcionan información del pasado.

Los historiadores

son los que estudian el pasado.

