

1. Selecciona la paloma que está arriba y a lado derecho de la casa.



2. Tacha de rojo la pelota que está lejos del niño.



3. Arrastra las figuras para completar los patrones



4. Relaciona las figuras geométrico con el objeto



A



B



C



D

etapasinfantiles.com



A



B

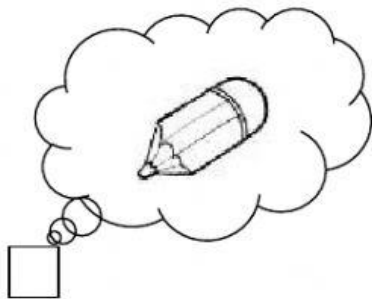


C





D


5. Escribe el número de elementos que tiene cada conjunto.












- 

6. Completa el número que falta

1    2    \_\_\_    4    5    6    \_\_\_    8    \_\_\_

3    7    0    9


7. Suma

Tengo 7 mariquitas y encuentro 3. ¿Cuántas tengo en total?



10

4




-

+

$$\boxed{7} - \boxed{3} = \boxed{\phantom{00}}$$

8. Resta

Tenía 10 galletas. Si me como 3, ¿cuántas me quedan?



6

7

+

-

$$\boxed{10} - \boxed{3} = \boxed{\phantom{00}}$$

9. Resta y relaciona

$\boxed{9} - \boxed{4}$	
$\boxed{10} - \boxed{4}$	
$\boxed{7} - \boxed{3}$	
$\boxed{8} - \boxed{5}$	
$\boxed{4} - \boxed{3}$	
$\boxed{6} - \boxed{6}$	

$\boxed{5}$
$\boxed{3}$
$\boxed{0}$
$\boxed{1}$
$\boxed{4}$
$\boxed{6}$