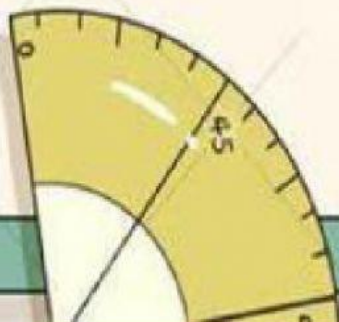




MATEMATIKA

**BANGUN SEGI
BANYAK**

**SOAL
EVALUASI**

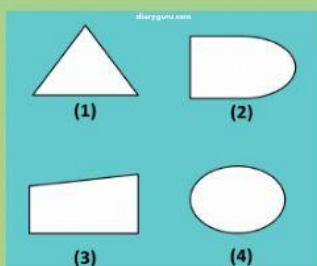


Nama :

No. Absen :

Berilah tanda silang (X) pada jawaban yang benar!

1. Perhatikan gambar berikut!




Bangun segi banyak pada gambar di samping ditunjukkan oleh nomor....

- a. 1 dan 4
- b. 1 dan 3
- c. 2 dan 3
- d. 2 dan 4

2. Berikut merupakan bentuk bangun segibanyak tidak beraturan, kecuali....

a.



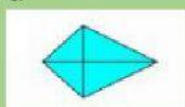
c.



b.



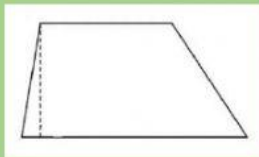
d.



3. Pengertian dari bangun segi banyak adalah.....


- a. Bangun datar yang dibatasi oleh ruas garis yang saling menyatu dan tertutup
- b. Bangun datar yang dibatasi oleh ruas garis yang saling menyatu dan terbuka
- c. Bangun datar yang tidak dibatasi oleh ruas garis yang saling menyatu dan tertutup
- d. Bangun datar yang tidak dibatasi oleh ruas garis yang saling menyatu dan terbuka

4. Bangun datar segi empat yang dibentuk oleh empat sisi yang dua diantaranya saling sejajar namun tidak sama panjang seperti ditunjukkan pada gambar di bawah ini adalah.....



- a. Jajar genjang
- b. Layang-layang
- c. Belah ketupat
- d. Trapesium

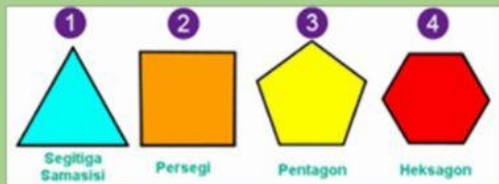
5. Perhatikan gambar berikut!



Banyaknya sisi pada gambar di samping adalah

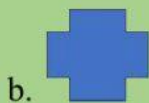
- a. 8 dan 8
- b. 6 dan 10
- c. 7 dan 6
- d. 5 dan 10

6. Bangun segi banyak yang semua sisinya sama Panjang dan semua sudutnya sama besar seperti ditunjukkan pada gambar di bawah ini disebut




- a. Bangun segi banyak beraturan
- b. Bukan bangun segi banyak
- c. Bangun segi banyak
- d. Bukan bangun segi banyak beraturan

7. Berikut ini yang termasuk bangun segi banyak adalah....



8. Persegi termasuk segi banyak beraturan karena memenuhi ciri/ sifat dari bangun segibanyak itu sendiri. Berdasarkan gambar berikut, ciri/ sifat bangun segibanyak pada bangun persegi adalah.....



- a. Mempunyai 4 sisi dan 4 sudut
- b. Panjang sisi dan jumlah sudutnya sama besar
- c. Panjang sisi dan jumlah sudutnya tidak sama besar
- d. Sisi dan sudutnya banyak

9. Perhatikan gambar berikut!



Segi banyak pada gambar di samping disebut....

- a. Pentagon
- b. Heksagon
- c. Heptagon
- d. Oktagon

10. Bangun Contoh bangun segi banyak beraturan dapat kita temukan pada benda di sekitar kita. Contoh benda tersebut adalah....


a.



c.



b.



d.

