








HACIENDO INVENTARIO

MANOLO ES DEPENDIENTE DE UNA TIENDA DE ROPA Y ESTÁ PREPARANDO LA REAPERTURA TRAS EL CONFINAMIENTO. PARA ELLO, HA HECHO UNA TABLA PARA SABER LAS PRENDAS QUE TIENE DE CADA COLOR Y PODER HACER EL PEDIDO A SU PROVEEDOR. ¿LE AYUDAS A COMPLETAR LA TABLA?



					TOTAL
					
					
					
TOTAL					

AHORA QUE MANOLO, GRACIAS A TI, TIENE LA TABLA COMPLETA, QUIERE HACER UNOS DIAGRAMAS DE BARRAS. EN UNO, TENDRÁ EN CUENTA LAS PRENDAS QUE HAY DE CADA TIPO Y, EN EL OTRO, DE QUÉ COLOR SON. ¿LE ECHAS UNA MANO? (FÍJATE BIEN CUANTOS REPRESENTA CADA RECTÁNGULO)

