

ESCOLA: _____

NOME: _____ DATA: ___/___/___

HORAS

Arraste as horas até o relógio correto.



9:00
2:00

5:00
8:00

3:00
11:00

Ligue as horas aos relógios correspondentes.



7:15



2:30



11:45




9:00



1:15



5:30



12:45




4:00



6:15



10:30




3:45



8:00


Resolva os problemas abaixo.

Júlia tem aula de inglês às 11 horas da manhã. Ela acordou no horário que marca o relógio abaixo. Quantas horas faltam para começar a aula de inglês de Júlia?



Faltam _____ horas para começar a aula de inglês de Júlia.

Lucas, um caminhoneiro, saiu de casa no horário que mostra o relógio abaixo. Sua viagem demorou 7 horas e 30 minutos. Que horas Lucas chegou ao seu destino?



Lucas chegou ao seu destino às _____:_____.