

4 FRACCIONES INVERSAS

Representaciones Variadas

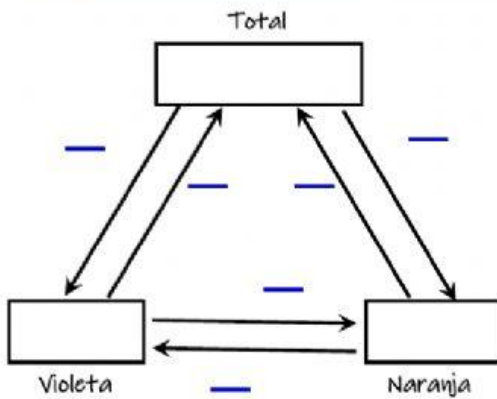
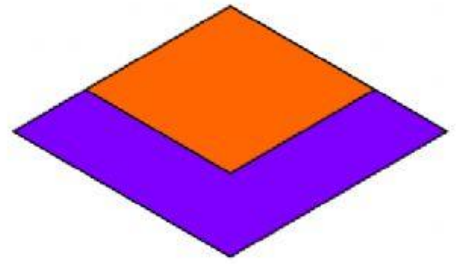
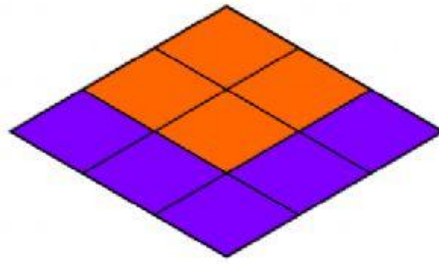

$$\frac{4}{9}R =$$

$$\frac{5}{9}H =$$

$$\frac{1}{9}R =$$

$$R =$$

Inma tenía un rombo amarillo, pintó una parte de naranja y otra de violeta. La parte violeta tiene una superficie de 675 cm^2 .



Comprueba con la calculadora

