

ST name:

G 4 \


Q1-Put the number of correct answer near its meaning: ضع رقم الإجابة الصحيحة بجوار التعريف

- | | |
|-------------------------------|----------------------------------------------------------------------|
| 1. Continent قارة | (.....) Large landmass أرض كبيرة جدا |
| 2. Abyssal plain سهل سحيق | (.....) Mountain inside ocean. جبال في المحيط |
| 3. Mid-ocean ridge سلاسل جبال | (.....) Deepest part of ocean floor. أعمق منطقة في المحيط |
| 4. Landform تضاريس | (.....) Mountain ranges in ocean. سلاسل جبلية في المحيط |
| 5. Rift valley وادي سحيق | (.....) Flat area on deep ocean floor. أرض واسعة في قاع المحيط |
| 6. Trenches خنادق | (.....) Valley down on mid-ocean ridge سلاسل وادي عميق في سلاسل |
| 7. Seamount جبل بحري | (.....) Physical features on Earth's surface. أشكال طبيعية على الأرض |

Q3- Look at picture 1 & 2 then connect each on to its name: وصل الصورة للكلمة الصحيحة:

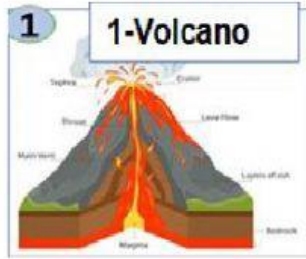
Relief Map خريطة مجسمة

Topographic Map خريطة طبوغرافية

**Q 4-Connect the word with its picture: وصل الكلمة للصورة الصحيحة:**Latitude دائرة عرض Lines go from East to WestLongitude خط طول lines go from North to South**Q 5-Put the number of correct answer near its meaning: ضع الرقم الصح بجوار التعريف**

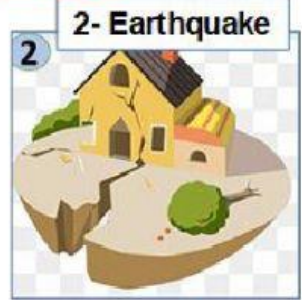
- | | |
|---------------------------------------------|--------------------------------------------------------|
| 1-Plates لوح \ صفيحة | (.....) Place where two plates meet. مكان التقاء لوحين |
| 2-Plate boundary حدود الصفائح | (.....) Plates movement حركة الألواح |
| 3-Volcanoes can form on. تتكون البراكين في. | (.....) The ocean floor or land. قاع المحيط والأرض |
| 4-Volcanoes are caused by سبب البراكين | (... ..) It will be Rocks صخور |
| 5-Lava of volcano after cold it turn to. | (.....) Earth crust which broken into large pieces |
- تحطم القشرة الأرضية الى قطع كبيرة

Q 6- Put the number of correct answer near its meaning: ضع رقم الجواب الصح:



(.....) Sudden moving of Earth's crust. حركة مفاجأة لقشرة الأرض

(.....) An Opening on Earth's surface give melted rock and gases. فتحة في سطح الأرض تُخرج صخور منصهرة وغازات



Q7- Put the number of correct answer in correct space: ضع رقم الجواب الصح:

1- Near plate boundaries
بالقرب من حدود الصفائح

2- Not near plate boundaries
ليست بالقرب من حدود الصفائح

(.....) Abyssal plains. سهل سحيق

(.....) Earthquakes, mountains and volcanoes. زلازل- جبال وبراكين

Q8- Choose correct answer: اختر الإجابة الصحيحة

1-Plateaus, valleys, canyons, and mountains are all examples of. ... هضبة وادي جبل جميعها امثلة على...

a- Highlands b- Mantle areas c-Landforms d-Hydrosphere

2- Which shows the elevation of an area using contour lines? تُظهر الارتفاع باستخدام خطوط الكنتور

a-Mountains b- Faults c- Topographical d-Mapcartographer

3-For which landform would contour lines be closest together on a topographical map?

بالنسبة لأي شكل أرضي إذا كانت خطوط الكنتور مقاربة على الخريطة الطبوغرافية فهذا الشكل هو:

a- Sand dune b- Plateau c- Valley d- Plains

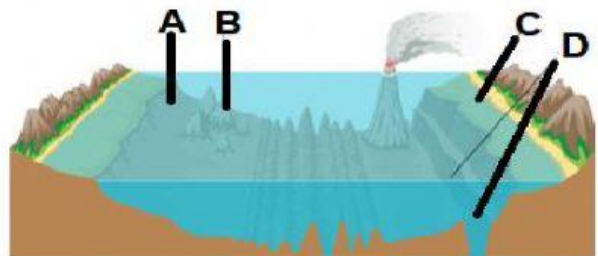
4-Look to picture then put correct latter near its name: انظر للصورة ثم ضع الحرف الصح بجوار اسمه:

1-(.....) Seamount. جبل بحري

2-(.....) Trenches. خندق

3-(.....) Continent shelf. رف قاري

4-(.....) Continent Slope. منحدر قاري



5-Select all of the ways maps of land and maps of the ocean floor could be similar. اختر كل المتشابهات في خرائط الأرض والمحيط

Both show valleys. Both show plant life. Both show mountain range

Both show earthquakes. Both show directions.

