

1 FRACCIONES INVERSAS

Representaciones Variadas

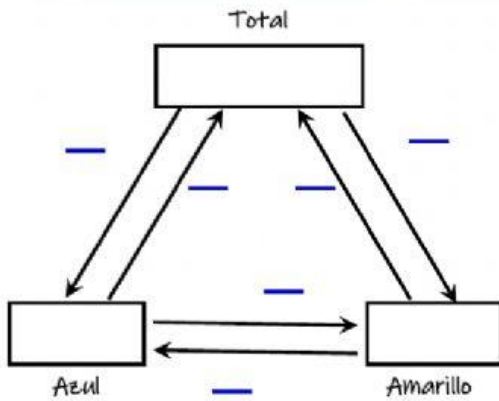
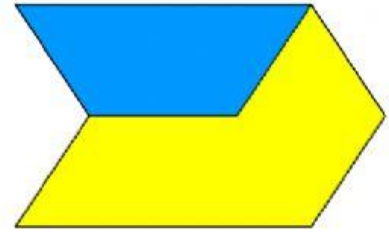

Pablo tenía un hexágono naranja, pintó una parte de azul y otra de amarillo. La parte azul tiene una superficie de 435 cm².

$$\frac{3}{8}H =$$

$$\frac{5}{8}H =$$

$$\frac{1}{8}H =$$

$$H =$$



Comprueba con la calculadora

