

**LEMBAR KERJA PESERTA DIDIK
(LKPD)
"INTERAKSI KERUANGAN DESA KOTA"**

Nama Siswa :

Kelas

Tanggal

A. Petunjuk Belajar (Petunjuk siswa)

1. Baca secara cermat bahan ajar sebelum mengerjakan tugas
2. Baca literatur lain untuk memperkuat pemahaman siswa
3. Kerjakan setiap langkah sesuai tugas

B. TUGAS 1

Potensi desa menurut Peraturan Menteri Dalam Negeri Nomor 12 Tahun 2007, menyatakan bahwa potensi desa dan kelurahan terdiri atas data sumber daya alam, sumber daya manusia, kelembagaan, prasarana dan sarana

1. Perhatikan indicator-indikator potensi desa di bawah ini!

<ol style="list-style-type: none"> 2. batas dan luas wilayah, 3. prasarana air bersih dan sanitasi 4. prasarana dan sarana lembaga 5. sumber daya air 6. Jumlah penduduk 7. Usia penduduk 8. informasi dan komunikasi 9. perikanan 10. organisasi profesi 11. bahan galian 12. Lembaga pemerintahan desa dan kelurahan 13. mata pencaharian pokok 	<ol style="list-style-type: none"> 14. tenaga kerja. 15. partai politik 16. lembaga perekonomian 17. kualitas lingkungan 18. wisata 19. transportasi 20. lembaga kemasyarakatan desa dan kelurahan 21. lembaga social kemasyarakatan 22. agama dan aliran kepercayaan 23. etnis/suku bangsa 24. prasarana dan kondisi irigasi 25. prasarana dan sarana pemerintahan
---	---

2. Berdasarkan indicator-indikator di atas kelompokkanlah berdasarkan empat potensi desa yang ada!

Potensi Sumber Daya Alam	Potensi Sumber Daya Manusia	Potensi Kelembagaan	Potensi Prasarana dan Sarana

3. Jelaskanlah alasan ananda, kenapa 4 aspek di bawah ini dapat menjadi indikator mengukur potensi desa!



No	Indikator	Alasan
1	Data sumber daya alam
2	Data sumber daya manusia	Penduduk desa merupakan potensi bagi desa itu sendiri. Semakin banyak jumlah penduduk desa, terlebih penduduk usia produktif, semakin besar potensi desa tersebut. Kegiatan penduduk yang ditekuni setiap hari memberikan sumbangan bagi pendapatan desa tersebut. Apabila suatu wilayah desa mempunyai potensi cukup baik, termasuk tingkat pendidikan penduduknya yang sudah tinggi, desa tersebut akan cepat berkembang
3	Kelembagaan
4	Prasarana dan sarana




C. Tugas/latihan

Desa Berdasarkan Tingkat Perkembangannya

- 1) Desa tradisional atau pra desa adalah tipe desa pada masyarakat suku terasing yang seluruh kehidupan masyarakatnya masih sangat bergantung kepada alam sekitarnya.
- 2) Desa swadaya adalah desa yang masyarakatnya telah mampu memenuhi kebutuhannya sendiri. Penduduknya masih jarang dan kurang berkomunikasi dengan masyarakat luar, sehingga proses kemajuan yang diperoleh sebagai hasil interaksi dengan wilayah berjalan lambat.
- 3) Desa swakarya adalah desa yang masyarakatnya sudah lebih maju dibandingkan dengan desa swadaya. Selain untuk memenuhi kebutuhannya sendiri, kelebihan produksi yang dihasilkan penduduk sudah mulai dijual ke daerah lain. Desa swakarya mulai mengadakan kontak atau hubungan dengan warga lain, walaupun intensitasnya masih sedikit.
- 4) Desa swasembada adalah desa yang sudah mampu mengembangkan semua potensi yang ada secara optimal. Masyarakat desa ini sudah mulai mengadakan interaksi atau hubungan dengan masyarakat luar untuk melakukan tukar menukar barang dengan wilayah lain. Hasil dari interaksi tersebut menyebabkan masyarakat yang tinggal di desa swasembada mampu menyerap teknologi baru untuk memanfaatkan sumber daya yang dimiliki, sehingga proses pembangunan dapat berjalan dengan baik

1. Identifikasilah gambar berikut ini berdasarkan tingkat perkembangan desa.

Gambar	Tingkat Perkembangan Desa	Ciri-ciri
	Desa	
		

Gambar	Tingkat Perkembangan Desa	Ciri-ciri
		
		
		

2. Lengkapilah tabel di bawah ini tentang bentuk-bentuk desa! Sesuaikan dengan pembagian oleh Daldjoeni

Bentuk-bentuk Desa	PENJELASAN
	
	
	
	

