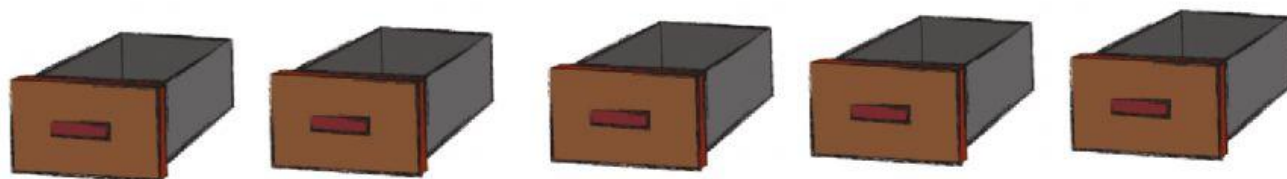


DIVISÃO OU MULTIPLICAÇÃO ?

LEIA CADA SITUAÇÃO PROBLEMA, OBSERVANDO OS TERMOS EM DESTAQUE PARA DESCOBRIR SE É UMA DIVISÃO OU UMA MULTIPLICAÇÃO.

A- JULIANA QUER **DISTRIBUIR, IGUALMENTE, **25** CAMISAS EM **5** GAVETAS. QUANTAS CAMISAS ELA COLOCARÁ EM **CADA** GAVETA ?**



RESPOSTA: ELA COLOCARÁ _____ CAMISAS EM CADA GAVETA.



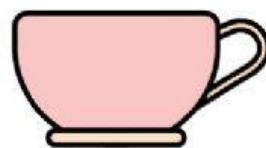
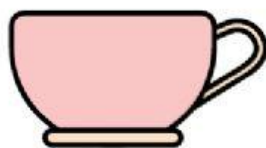
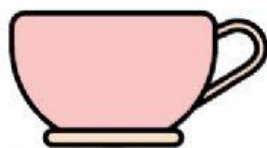
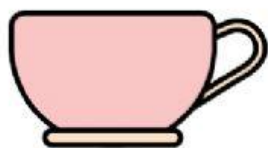
B- MANUELA TEM **21** CANETINHAS. ELA QUER **DIVIDIR**, IGUALMENTE, EM **3** ESTOJOS. QUANTAS CANETINHAS ELA COLOCARÁ EM CADA ESTOJO ?



RESPOSTA:

ELA COLOCARÁ _____ CANETINHAS EM CADA ESTOJO.

C- PARA FAZER UMA RECEITA DE BOLO, SÃO NECESSÁRIAS 4 XÍCARAS DE FARINHA. QUANTAS XÍCARAS DE FARINHA SERÃO NECESSÁRIAS PARA FAZER 3 RECEITAS DESTA BOLO ?



RESPOSTA: SERÃO NECESSÁRIAS _____ XÍCARAS DE FARINHA.



D- PEDRO FAZ **10** PÁGINAS DE LIÇÃO POR DIA. QUANTAS PÁGINAS ELE FARÁ EM **4** DIAS ?



RESPOSTA: ELE FARÁ _____ PÁGINAS.



E- MAÍSA FEZ OS BRIGADEIROS REPRESENTADOS ABAIXO. ELA QUER DISTRIBUIR, IGUALMENTE, EM 5 BANDEJAS. QUANTOS BRIGADEIROS ELA COLOCARÁ EM CADA BANDEJA ?



RESPOSTA: ELA COLOCARÁ _____ BRIGADEIROS EM CADA BANDEJA.



F- HENRICO PLANTA 12 MUDAS DE FLORES POR DIA. QUANTAS MUDAS ELE PLANTARÁ EM 4 DIAS ?



RESPOSTA: ELE PLANTARÁ _____ MUDAS DE FLORES EM QUATRO DIAS.

