







UNIDAD EDUCATIVA BENJAMÍN FRANKLIN







TALLER ONLINE- 2DO PARCIAL – 1ER QUIMESTRE



Name: _____
 Subject: **Matemàtica** Teacher: Miss Ainee Olvera García
 Course: Segundo de Básica Score: _____

Marca los cuadros según los datos mostrados en cada fruta

						
Niños/as	5	3	10	2	6	4

10						
9						
8						
7						
6						
5						
4						
3						
2						
1						
						

VERDADERO ☒ O FALSO ☐

- La fruta favorita es el plátano ☐
- La fruta que menos gusta es la naranja ☐
- A nadie le gusta el kiwi ☐
- Dos personas prefieren la uva ☐
- ¿Cuántas personas han respondido en esta encuesta?