

















































**COLEGIO ANGLO AMERICANO**  
**"PROYECTO FORJADOR DE VALORES PARA UNA NUEVA SOCIEDAD"**  
**DEPARTAMENTO DE MATEMÁTICAS**  
**GRADO TERCERO**

**TALLER ESTUDIO DIRIGIDO**

En el siguiente pictograma encontrarás información sobre la cantidad de estudiantes que participaron en un concurso nacional de matemáticas.

GRADO	CANTIDAD DE PERSONAS
Primero	        
Segundo	       
Tercero	          
Cuarto	         
Quinto	      

Cada  = 3 578 estudiantes

1. ¿Cuántos estudiantes de cuarto participaron en el concurso?

Rta: \_\_\_\_\_ estudiantes de cuarto participaron en el concurso.

2. ¿Cuántos estudiantes de cuarto más que de segundo participaron en el concurso?

Rta: \_\_\_\_\_ estudiantes de cuarto más que de segundo participaron en el concurso.