

# Evaluación

Apellidos y Nombres:

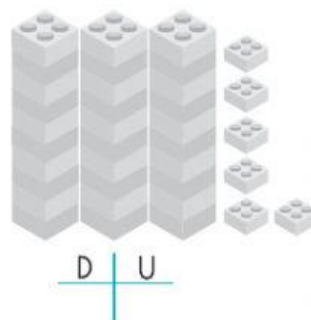
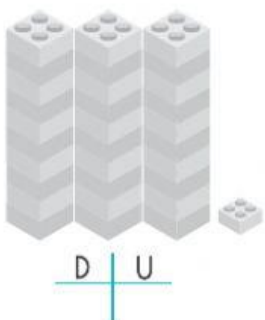



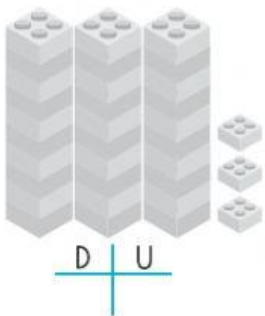
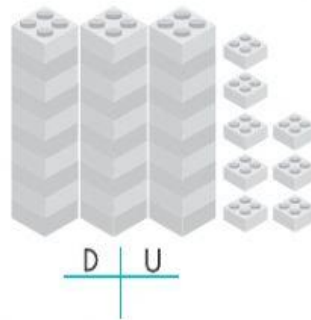

Día:

Mes:

Año:

Nota:

1. Identifica el número que representa el grafico, ubicalo en el tablero de valor posicional y coloca  $>$ ,  $<$  o  $=$  según corresponda:



2. Une ambas comunas con una flecha:

3 decena y 1 unidades.

36

3 decena y 3 unidades.

35

6 unidades y 3 decenas

31

9 unidades y 3 decenas

33

5 unidades y 3 decenas

39

3. Observa el número y escribe según lo solicitado:

A. **30** El número que está en el orden de las decenas es:

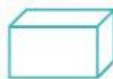
C. **37** El número que está en el orden de las unidades es:

B. **32** El número que está en el orden de las unidades es:

D. **26** El número que está en el orden de las decenas es:

4. Escribe en el recuadro el número según su descomposición. Luego, compara los números y coloca  $>$ ,  $<$  o  $=$  según corresponda:

4U + 3 D



2 U + 3D



3D + 1U



1U + 3D



2D + 7U



3D + 2U



3D + 9U



2D + 9 U

