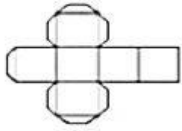


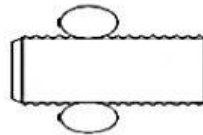
E. M. Anleifer Leite Fernandes

Nome: _____

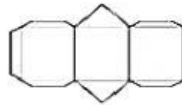
Data: _____

1- Indique a que sólido geométrico correspondem as planificações:

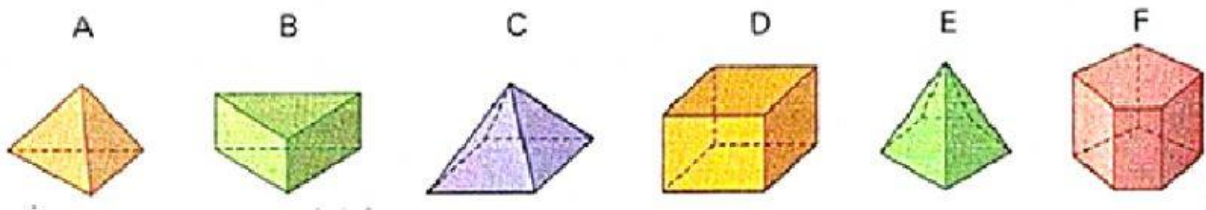




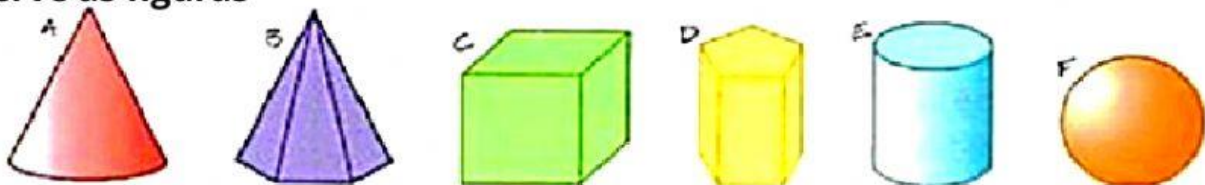




2- Marque as letras onde estão as pirâmides



3- Observe as figuras



Identifique os sólidos representados através da letra correspondente.

- a) esfera _____ b) cubo _____ c) pirâmide _____
 d) cilindro _____ e) cone _____ f) prisma _____

4- Separe os sólidos geométricos em **CORPOS ARREDONDADOS** e **CORPOS NÃO ARREDONDADOS**. Escreva o nome dos sólidos geométricos no lugar correto:

CORPOS ARREDONDADOS	CORPOS NÃO ARREDONDADOS

