

ESCOLA ZILNETE PEREIRA GUIMARÃES

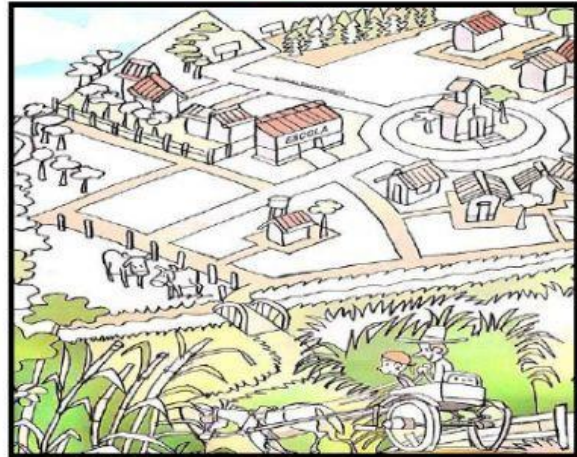
NOME: _____ TURMA: _____

PROF^a.: _____ DATA: _____

A PAISAGEM DOS LUGARES



CIDADE



CAMPO

Na ilustração acima, é possível perceber lugares diferentes. Em parte da ilustração, é possível observar uma cidade, com cruzamentos de ruas, semáforos, faixas de pedestre e edifícios próximos uns dos outros. Já no bairro rural, localizado no campo, há vegetação, plantações, ruas pequenas e de terra e animais.

Tudo o que vemos com nossos olhos ou que percebemos com outros sentidos é chamado de **paisagem**.

Assim, podemos ver duas paisagens diferentes na ilustração acima.

1 - Observe novamente as paisagens acima e faça um **X** apenas os elementos **COMUNS** aos dois lugares.

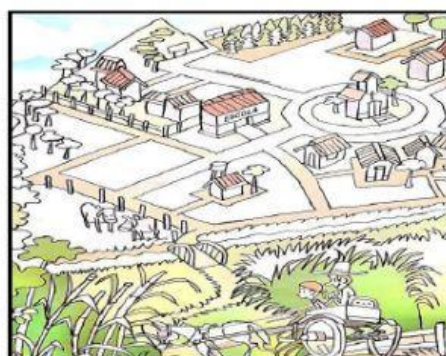
- () Escola
- () Animais
- () Moradias
- () Vegetação
- () traçado das ruas

2 – ESCREVA AS RESPOSTAS CORRETAS DE ACORDO COM AS IMAGENS ABAIXO:

IMAGEM 1



IMAGEM 2



A) Em qual das paisagens podemos ver animais?

() IMAGEM 1

() IMAGEM 2

B) Em qual das paisagens podemos ver mais casas?

() IMAGEM 1

() IMAGEM 2

C) Em qual das paisagens há semáforos?

() IMAGEM 1

() IMAGEM 2

As mudanças na paisagem



IMAGEM 1



IMAGEM 2

Paisagem NATURAL é uma paisagem que não sofreu modificações do ser humano e **paisagem MODIFICADA** é a paisagem que foi modificada pelo ser humano.

As paisagens, naturais ou artificiais, mudam com o passar do tempo.

3 - Observe novamente as paisagens e responda:

A) Qual delas é uma paisagem natural?

() IMAGEM 1

() IMAGEM 2

B) Qual delas é uma paisagem artificial?

() IMAGEM 1

() IMAGEM 2

4 - Leve cada imagem ao tipo de paisagem correspondente:



Paisagem NATURAL



Paisagem MODIFICADA



Paisagem NATURAL



Paisagem NATURAL



Paisagem MODIFICADA

4 - Observe a fotografia abaixo e complete o quadro com os elementos retratados nela.



Elementos naturais	Elementos construídos pelas pessoas
<input type="text"/>	<input type="text"/>
<input type="text"/>	<input type="text"/>
<input type="text"/>	<input type="text"/>

ILUMINAÇÃO





PLANTAS

POSTE

CASAS

SOLO

5 - Observe as ilustrações e arraste cada ação realizada pelo homem à figura correspondente.



ESTRADA

CIDADE

PONTE

TÚNEL

6 – MARQUE O QUE FAZ PARTE DO LUGAR ONDE VOCÊ MORA.

() LOJAS

() RUAS

() PONTE

() ESTRADAS

() TÚNEL

() RIO

() EDIFÍCIOS

() MONTANHA

() ANIMAIS

() ÁRVORES

() CASAS

() LAGO

() PASTO

() MAR

() PRAÇA

7 – ENCONTRE NO CAÇA-PALAVRAS ELEMENTOS DA PAISAGEM NATURAL E MODIFICADA.

H	D	T	U	S	A	T	M	O	N	T	A	N	H	A	S
Q	A	N	I	M	A	I	S	R	Y	P	C	R	E	Q	Z
P	G	Z	O	T	W	R	Q	M	R	O	O	G	S	C	G
R	A	P	J	D	H	Q	H	D	Ã	N	N	S	T	D	C
É	Z	R	O	L	F	C	D	F	Ç	T	S	G	R	N	A
D	J	X	Q	Y	G	D	A	T	N	E	T	U	A	T	C
I	K	W	N	U	B	Ç	Q	S	Õ	S	R	M	D	Õ	H
O	O	Q	E	H	E	A	A	L	A	Ç	U	G	A	Y	U
S	L	A	D	G	V	S	E	J	T	S	Ç	N	S	N	E
W	Ã	F	H	K	X	D	O	D	S	Ç	Õ	X	C	B	I
B	P	Z	J	Ç	A	L	W	M	A	R	E	S	L	I	R
C	A	R	R	O	S	E	Z	Y	W	L	S	K	H	G	A
Ã	T	Y	U	L	R	I	O	S	Ã	Y	A	O	J	Y	S
P	R	A	Ç	A	S	R	T	E	S	J	Y	G	L	Ç	M
W	R	Y	D	J	T	P	L	A	N	T	A	S	O	Ã	F
F	L	O	R	E	S	T	A	S	N	R	H	T	M	S	D

8 – AGORA, ORGANIZE AS PALAVRAS ENCONTRADAS NAS COLUNAS ABAIXO.

ELEMENTOS MODIFICADOS	ELEMENTOS NATURAIS

