

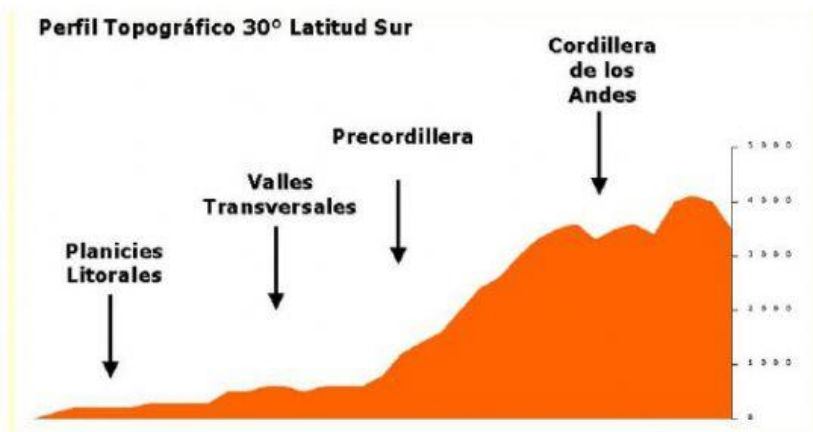
Para cada perfil topográfico observe la imagen y responda verdadero o falso. (puede complementar con lo visto en clases)



___ El perfil topográfico latitud 21° latitud sur corresponde a la Zona Norte Chico

___ El farellón costero se encuentra en las planicies litorales.

___ El altiplano lo encontramos en la Cordillera de los Andes.



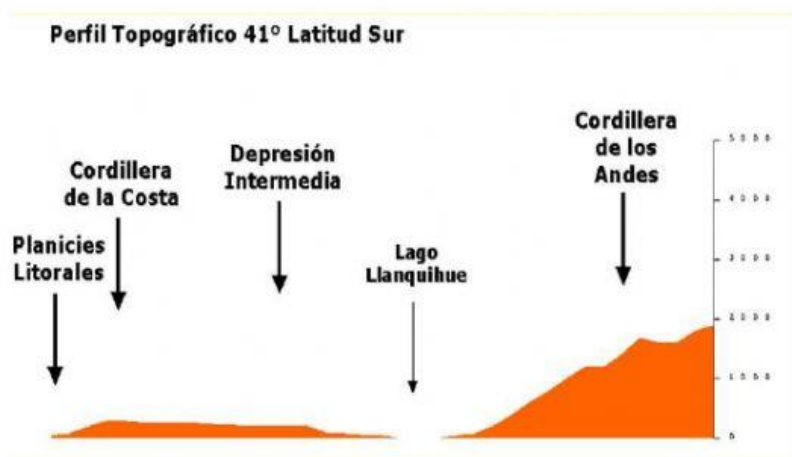
___ El perfil topográfico latitud 30° corresponde a la Zona Sur

___ Los Valles transversales cruzan la depresión intermedia

___ Un ejemplo de planicie litoral de esta zona es La Serena.

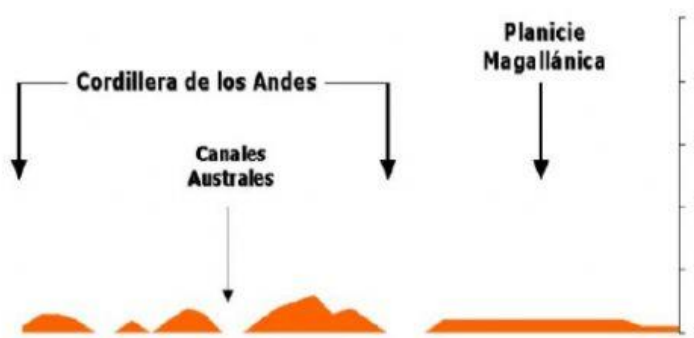


- ___ El perfil topografico latitud 33° corresponde a la Zona Central de Chile
- ___ En esta Zona aparecen las cuatro macroformas del relieve.
- ___ En la depresión intermedia de esta Zona es donde habita la mayor parte de l población.



- ___ El perfil topografico 41° latitud Sur corresponde a la Zona Central
- ___ La presencia de lagos es en la Cordillera de los Andes
- ___ Esta Zona tiene extensas planicies litorales

Perfil Topográfico 54° Latitud Sur



- _____ El perfil topografico 54° latitud Sur corresponde a la Zona Austral
- _____ La Cordillera de los Andes es la única macroforma presente en esta Zona Natural
- _____ La Cordillea de los Andes ha perdido mucha altura y se presenta como islas entre canales.