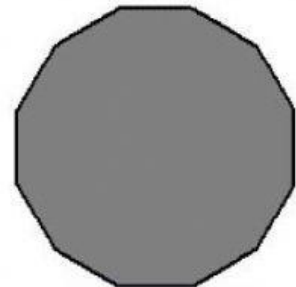
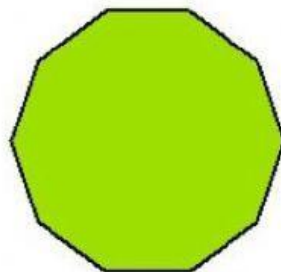
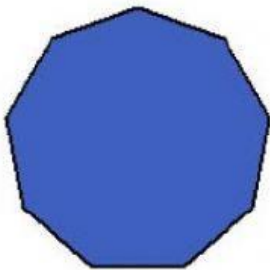

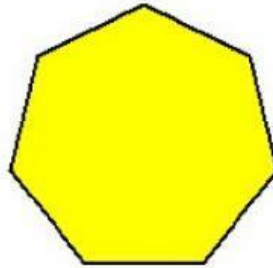
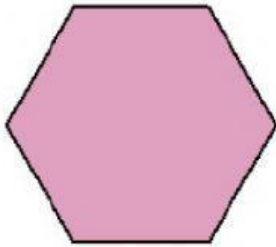


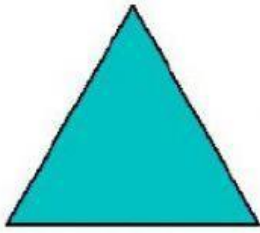


Nombre y apellidos:

Fecha:

1.- Arrastra cada nombre al polígono correspondiente.



TRIÁNGULO

HEPTÁGONO

OCTÁGONO

DECÁGONO


CUADRILÉTERO

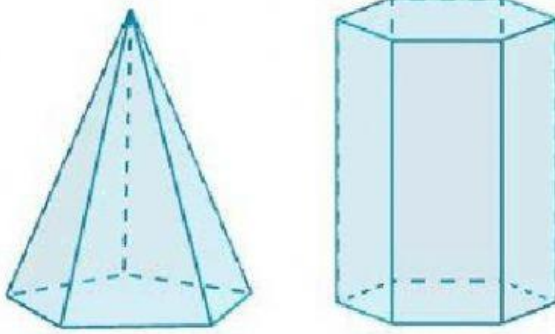
PENTÁGONO

HEXÁGONO

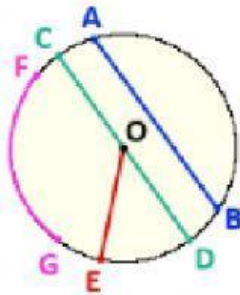
NONÁGONO

DODECÁGONO

2.- ¿Cuántos prismas ves aquí? (Pincha el play) 



3.- Di a qué elemento corresponde cada letra. (Pincha en el rectángulo y escribe el nombre sin faltas ortográficas).



Segmento AB es una

Segmento CD es un

Segmento OE es un

Parte de la circunferencia comprendida entre

Los puntos F y G es un

4.-Une cada triángulo con su clasificación. (Pincha el altavoz) 



ISÓSCELES



EQUILÁTERO



ESCALENO



OBTUGÁNGULO



ACUTÁNGULO



RECTÁNGULO