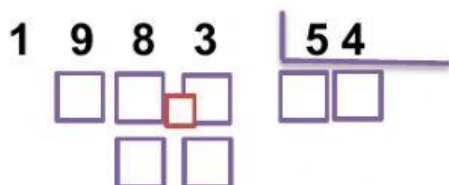


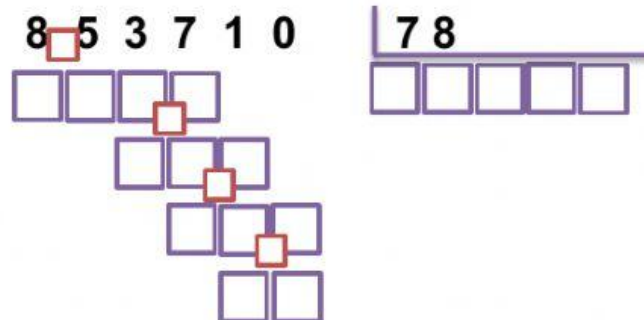
1. La teacher Lina compró **1.983** cocadas de coco, quiere repartirlas en partes iguales a su familia, si son **54** miembros de la familia, ¿cuántas cocadas le corresponde a cada uno?



**Respuesta:**

A cada uno le corresponde \_\_\_\_\_ cocadas y le sobra \_\_\_\_\_ cocadas para regalárselas a la teacher Briyid. 😊

2. Thomas y Nicolas tienen una terreno ubicado Pasto Nariño- región pacífica de Colombia, con una extensión de **853.710 metros cuadrados**, si ellos piensan dividir el terreno en **78** partes iguales, ¿cuál es el área de cada parte?



**Respuesta:**

El área de cada parte es de \_\_\_\_\_ m<sup>2</sup>. Y le regala un lote a cada compañero de clase. 😊

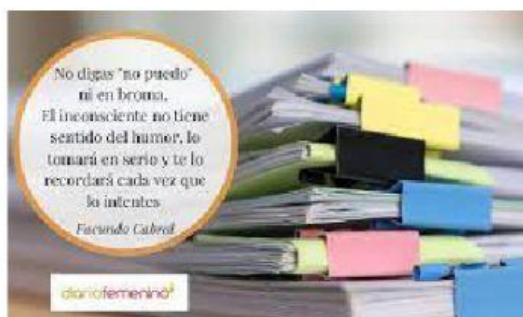
3. Piplub, el pingüino pokemon ha capturado **1.536** peces en total, en cada zambullida atrapaba **8** peces ¿Cuántas zambullidas tuvo que hacer para capturar estos todos estos peces?



Piplup tuvo que hacer \_\_\_\_\_ zambullidas.

4. Escribe frente a cada division la forma abreviada (no se resuelve)

|               |   |
|---------------|---|
| 345.600 ÷ 340 | <input type="text"/> ÷ <input type="text"/> |
| 996.000 ÷ 200 | <input type="text"/> ÷ <input type="text"/> |
| 100450 ÷ 7000 | <input type="text"/> ÷ <input type="text"/> |



# Never give up!

Made by: Teacher Briyid M. D.