

EVALUACIÓN de Historia y Geografía.

Nombre				<div>Timbre de EVALUADOR</div> <div>CALIFICACIÓN</div>
Curso	3° A	Fecha:	30 - 06 - 2022	
Asignatura	Historia y Geografía	Profesor:	Luis Martínez Silva	
Objetivos de Aprendizajes	08 Identificar y ubicar en mapas las principales zonas climáticas del mundo y dar ejemplos de distintos paisajes que pueden encontrarse en estas zonas y de cómo las personas han elaborado diferentes estrategias para habitarlos.			
Puntaje IDEAL	33	Puntaje REAL		

INSTRUCCIONES:

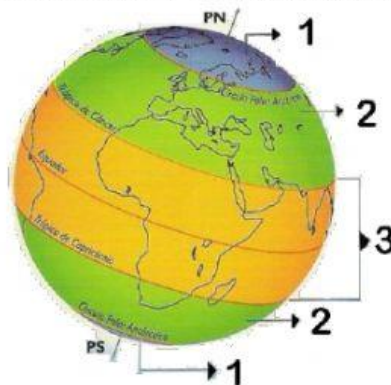
Lee con mucha atención cada enunciado antes de responder.
Si tienes dudas levanta tu mano y espera al profesor.
Si crees que ya terminaste, espera en silencio en tu puesto.
Cada respuesta correcta vale 3 puntos.

Identificar zonas climáticas.

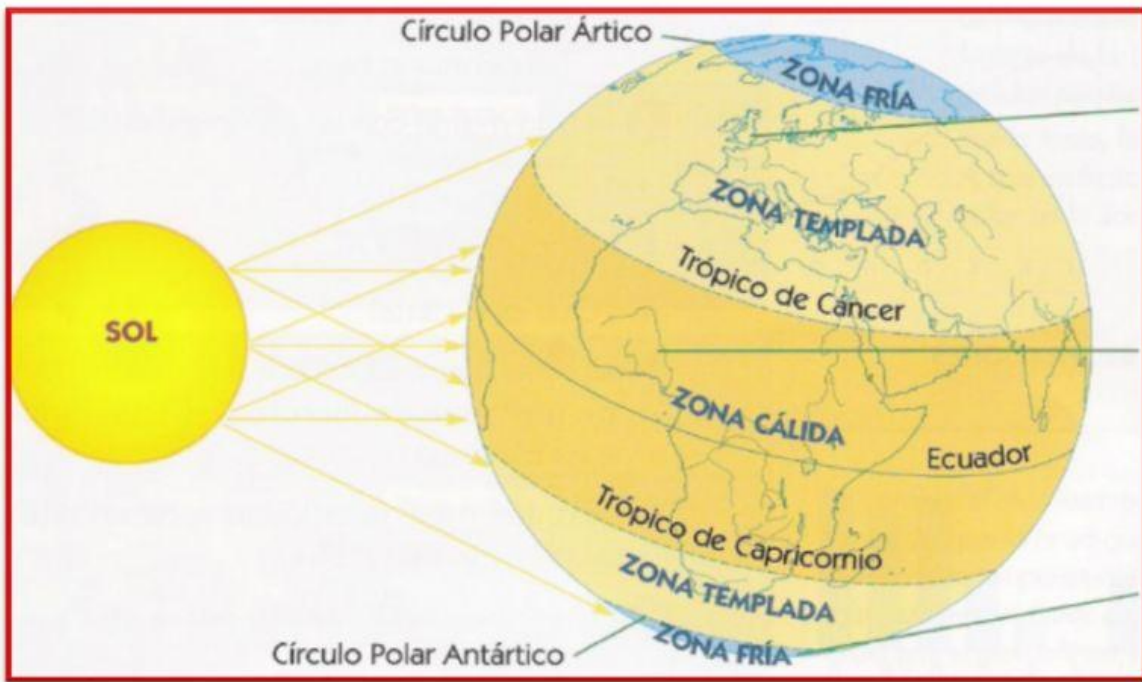
(3 puntos)

1.- Observa el globo terráqueo y menciona las zonas señaladas con el número 1 y 3.

- ☐ A Zona fría y Zona cálida.
- ☐ B Zona templada y Zona fría.
- ☐ C Zona cálida y Zona templada.
- ☐ D Zona fría y Zona templada.



Observa este globo terráqueo y responde la pregunta.



2.- ¿Dónde se encuentra la Zona Cálida?

- A** Entre los Trópicos de Cáncer y Capricornio.
- B** Entre el Trópico de Cáncer y Círculo Polar Ártico.
- C** Entre la línea del Ecuador y el Círculo Polar Antártico.
- D** Entre el Trópico de Capricornio y el Círculo Polar Antártico.



**Educación
Adventista**

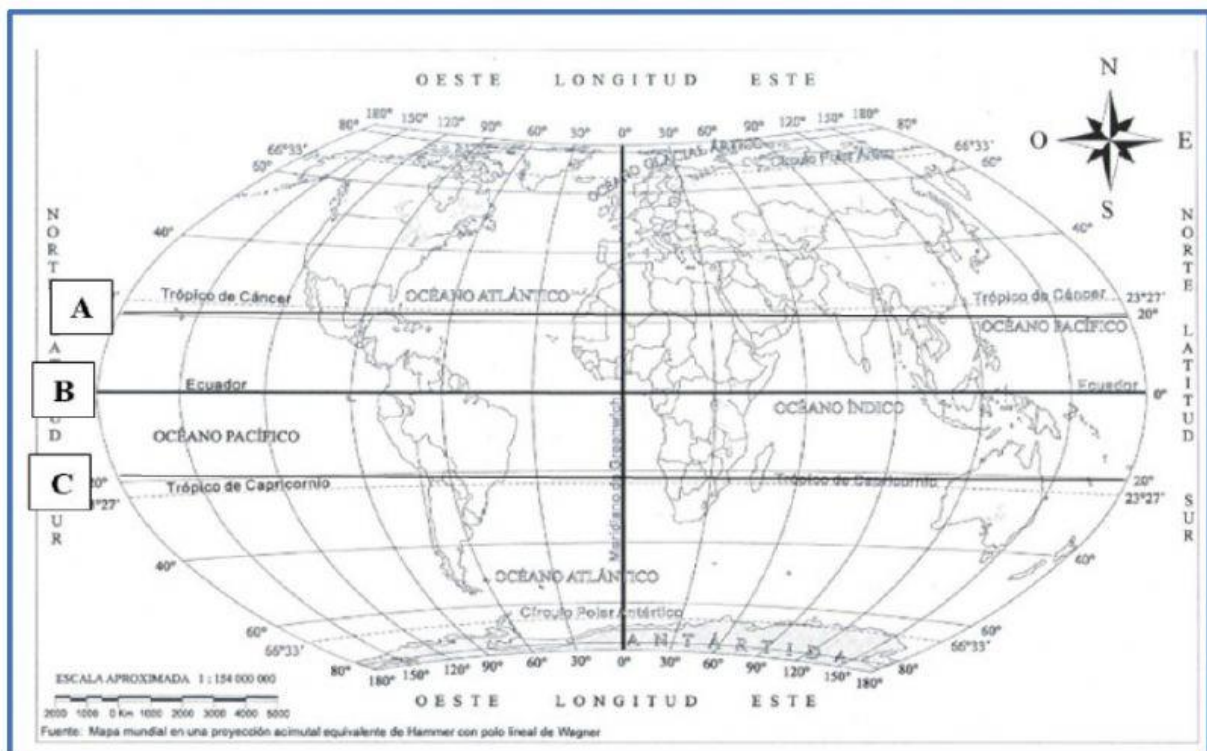
LIVEWORKSHEETS

3.- ¿En qué zona climática se encuentra este paisaje?

- A** Templada.
- B** Cálida.
- C** Fría.
- D** Cálida - templada.



Observa este planisferio y responde las preguntas 4 y 5.



4.- ¿Qué representa la línea que está indicada en la letra **A**?

- A** El eje polar.
- B** La Línea del Ecuador.
- C** El Trópico de Cáncer.
- D** El Trópico de Capricornio.

5.- ¿En cuál hemisferio del planisferio se encuentra Chile?

- A** En el hemisferio Sur.
- B** En el hemisferio Norte.
- C** En el hemisferio Este.
- D** En los hemisferios Noroeste.

6.- ¿Cómo se llama la línea marcada en el globo terráqueo?

- A** Línea del ecuador.
- B** Polo norte.
- C** Trópico de cáncer.
- D** Círculo polar antártico.



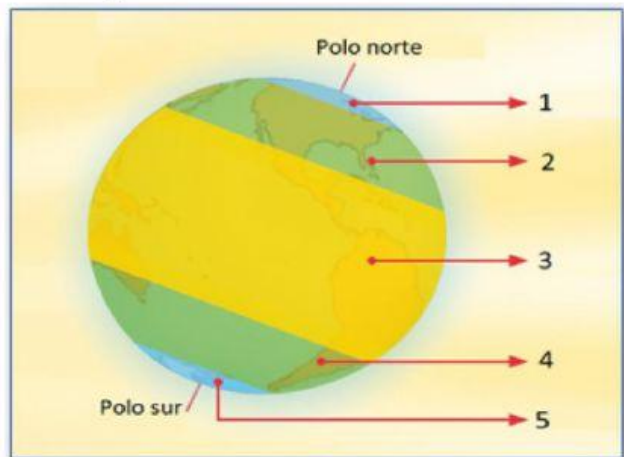
7.- ¿Cuál es el nombre de este continente?

- A América.
- B Asia.
- C África.
- D Oceanía.



8.- ¿Cuál es la zona más cálida de nuestro planeta?

- A Zona 3.
- B Zonas 2 y 4.
- C Zona 1.
- D Zonas 1 y 5.



9.- Los inuits se han adaptado para habitar en climas

- A Cálidos.
- B Fríos.
- C Templados.
- D En cualquier tipo de clima.



**Educación
Adventista**

LIVEWORKSHEETS

10.- ¿En qué zona climática se encuentra este paisaje?

- A Templada.
- B Cálida.
- C Fría.
- D Cálida - templada.



11.- ¿A qué zona climática corresponde este paisaje?

- A Templada.
- B Cálida.
- C Fría.
- D Cálida - templada.



Y vio Dios todo lo que había hecho, y he aquí que era bueno en gran manera. Y fue la tarde y fue la mañana: el sexto día.

Génesis 1:31