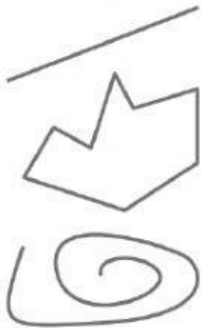


# TIPOS DE LINEAS

Une con flechas.



línea curva cerrada

línea poligonal cerrada


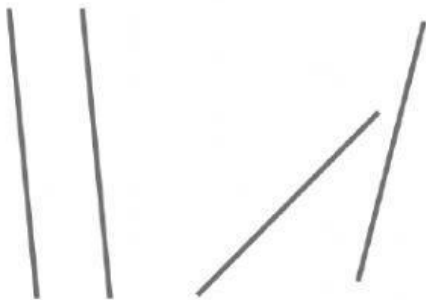
línea curva abierta

línea recta

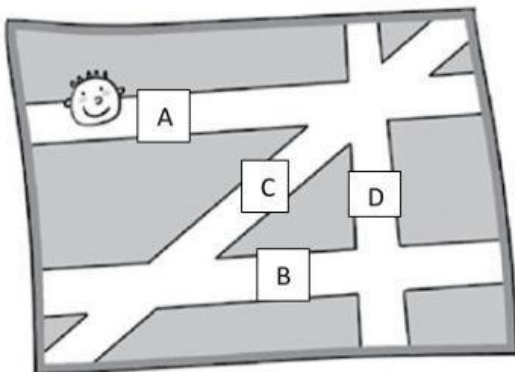
línea poligonal abierta



Selecciona las líneas que sean paralelas.



Observa el dibujo y escribe (v) si es verdadera o (f) si es falsa cada una de estas afirmaciones.



- Las calles A y D son perpendiculares. ....
- Las calles A, B y C son paralelas. ....
- Las calles C y B son perpendiculares. ....
- Las calles A y C son secantes. ....
- La calle B tiene dos calles paralelas. ....