

ÁNGULOS

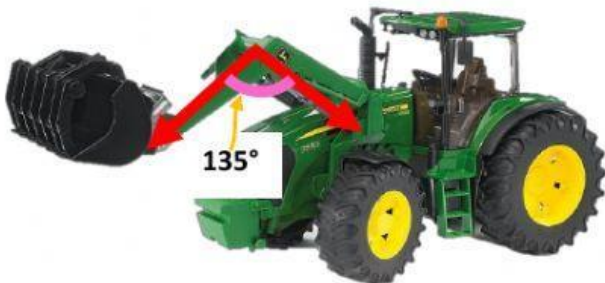
1. Relaciona con el tipo de ángulo que corresponda.



OBTUSO



RECTO

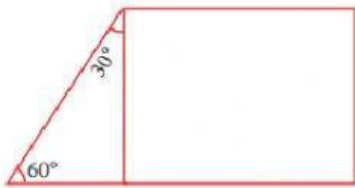


LLANO



AGUDO

2. Responde correctamente.

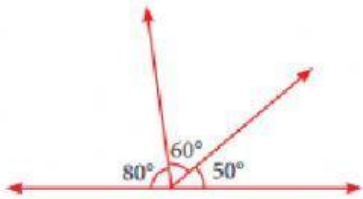


¿Cuántos ángulos agudos hay?

5

2

3

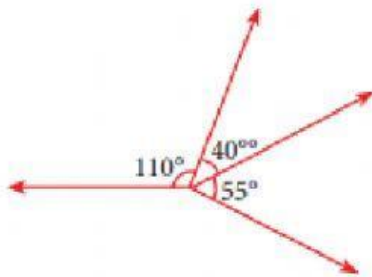


¿Cuántos ángulos agudos hay?

4

1

3

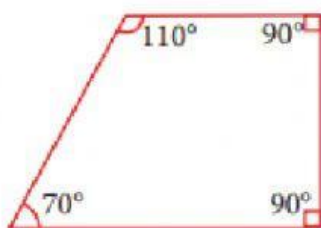


¿Cuántos ángulos llanos hay?

1

0

5




¿Cuántos ángulos rectos hay?

1

2

4



¿Cuántos ángulos obtusos hay?

0

1

2