




Todo por amor nada por la fuerza



CUANTOS ANIMALES HAY Y COLOCA EN EL RECUADRO LOS NUMEROS QUE CORRESPONDEN.








Todo por amor nada por la fuerza




UBICA CON UNA LINEA LA RESPUESTA CORRECTA.


5.



8.



6.



4.

