

Lembar Kerja Peserta Didik (LKPD) Sendi dan Otot

Nama Siswa	:	
Nomor Absen	:	
Kelas	:	

A. Identitas

Mata Pelajaran : Ilmu Pengetahuan Alam
Kelas/Semester : VIII/1
Materi : Sistem Gerak pada Manusia
Sub Materi : Sendi dan Otot

B. Tujuan Pembelajaran

Menganalisis struktur dan fungsi rangka

C. Petunjuk

1. Baca buku siswa kelas 8 semester 1 halaman 29 sampai halaman 42
2. Siapkan handphone, laptop atau gadget lainnya
3. Bacalah petunjuk kegiatan dengan cermat
4. Tuliskan nama, nomor absen dan kelas
5. Periksa pekerjaanmu sebelum diberikan/dikirim ke guru

D. Ringkasan Materi

- Silakan dibaca pada file pdf untuk materi sendi dan otot.

SENDI (join with arrow)

Tariklah garis dari **gambar** organ disebelah kiri ke **nama** organ disebelah kanan yang sesuai. Yang diberi bulatan berwarna merah menunjukkan sendi



Sendi peluru

Sendi pelana

Sendi putar

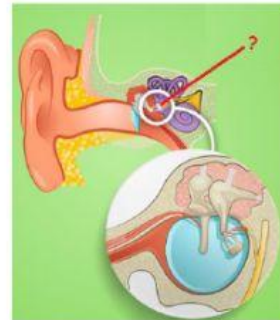
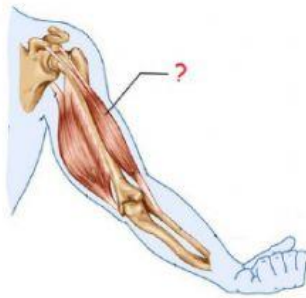
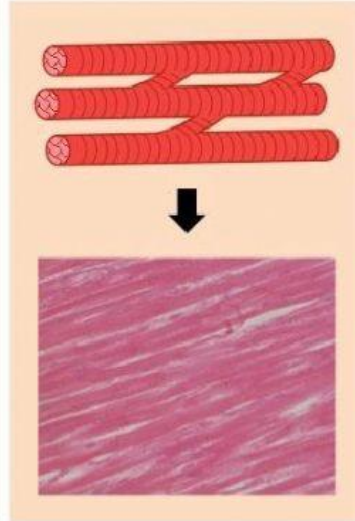
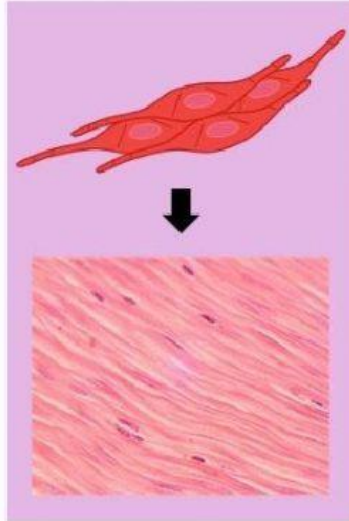
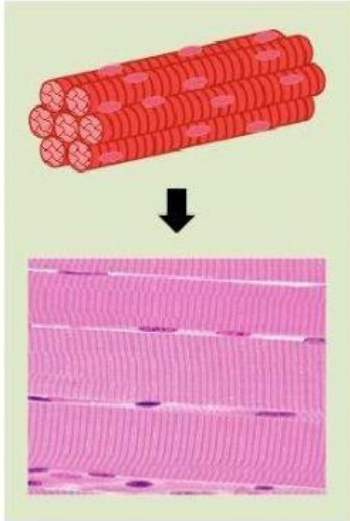
Sendi geser


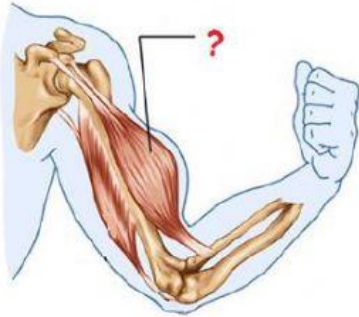
Sendi engsel

Sendi gulung

OTOT (drop down)

Klik kotak di bawah gambar, pilih jawaban sesuai gambar di atasnya.





Jawablah pertanyaan berikut!

1. Gangguan pada sistem gerak yang dirasakan pada sendi termasuk penyakit
 - A. Riketsia
 - B. Osteoporosis
 - C. Arthritis
 - D. Fraktura
2. Kelainan ini dapat disebabkan karena penyakit misalnya TBC dan riketsia atau kebiasaan duduk yang salah.
 - A. Kifosis
 - B. Lordosis
 - C. Skoliosis
 - D. Narsis
3. Letaknya menempel pada rangka tubuh dan digunakan sebagai alat pergerakan. Dinamakan otot
 - A. Polos
 - B. Jantung
 - C. Lurik
 - D. Sinergis
4. Sendi ini terdapat pada tulang tengkorak dan tidak dapat digerakkan. Sendi ini dinamakan
 - A. Skoliosis
 - B. Amfiartrosis
 - C. Sinartrosis
 - D. Lordosis