


Actividad 1 REFUERZO ESCOLAR

1.- Ubica donde corresponda según su equivalencia




2.- Escribe la cantidad representada




C	D	U



C	D	U



C	D	U



C	D	U