

Lembar kerja peserta didik

Materi : Perkembangbiakan Tumbuhan Secara Vegetatif

Nama

Kelas

A. Perkembangbiakan Vegetatif Alami

Tentukanlah alat perkembangbiakan vegetatif alami yang dimiliki oleh tanaman pada gambar berikut dengan menarik kolom jawaban ke dalam kolom gambar tumbuhan yang di sediakan

Rhizoma

Geragih /stolon

Umbi akar

Umbi batang

Umbi lapis

Tunas adventif

spora



B. perkembangbiakan vegetatif buatan

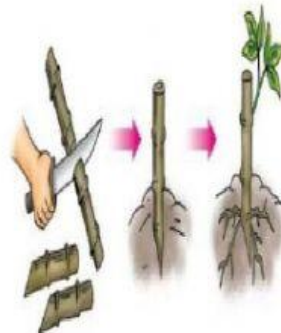
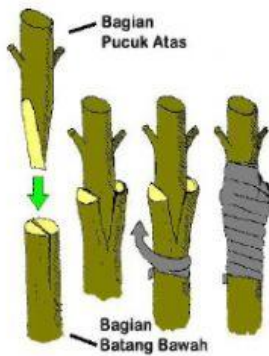

Stek batang

Menyambung

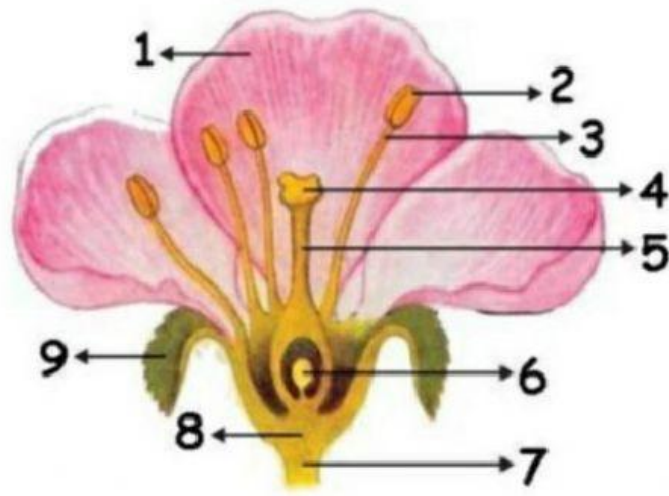
Mencangkok

Okulasi

Merunduk



C. Bagian-bagian Bunga



1

2

3

4

5

6

7

8

9

Kepala sari

Benang sari

Kepala putik

Tangkai putik

Dasar Bunga

Kelopak

Mahkota

Bakal biji

Tangkai bunga

D. Mekanisme Pembuahan Ganda pada Angiosperma
Perhatikan video berikut ini!




Analisislah proses reproduksi tumbuhan Angiospermae berdasarkan video tersebut!



E. Mekanisme Pembuahan Ganda pada Gymnospermae

Perhatikan video berikut ini!



Analisislah proses reproduksi tumbuhan gymnospermae berdasarkan video tersebut!

