

Lembar Kerja Peserta Didik Pengantar ilmu Geografi

| | |
|-------------------|----------------------------|
| Satuan Pendidikan | SMA Negeri 2 Pandeglang |
| Materi | Perkembangan ilmu Geografi |
| Fase | E |

| | |
|----------|--|
| Kelas | |
| No absen | |
| Nama | |

Gambar Tokoh Geografi pada kotak masih acak, aturlah gambar sesuai tahapan perkembangannya

Tokoh
Geografi
klasik

Geser Ke Sini



NEIL WRIGLEY

Tokoh
Geografi
abad
pertengahan

Geser Ke Sini



IMMANUEL
KANT

Tokoh
Geografi
Modern

Geser Ke Sini



HETTNER

Tokoh
Geografi akhir
abad ke XIX

Geser Ke Sini



MARCOPOLO

Tokoh
Geografi
Mutakhir


Geser Ke Sini



PTOLEMAUS

GESER GAMBAR TOKOH SESUAI PENDAPAT DAN ALIRAN YANG DICETUSKAN

Ilmuan Yunani pencetus istilah geografi. Beliau mengatakan geografi adalah ilmu pengetahuan yang menggambarkan keadaan bumi



Claudius Ptolemeus



Tokoh geografi yang menyatakan bahwa geografi adalah suatu penyajian melalui peta dari Sebagian dan seluruh permukaan bumi




Vidal de la place



Tokoh aliran Fisis Determinisme




Erathotenes



Tokoh aliran Posibilisme



Carl Ritter



JAWABLAH PERTANYAAN BERIKUT INI DENGAN BAIK DAN BENAR,PILIHLAH SALAH SATU JAWABAN A,B,C,D DAN E YANG PALING TEPAT.

1. Objek studi geografi terdiri dari...
 - a. Objek ekonomi dn objek material
 - b. Objek formal dan objek sosial
 - c. Objek sosial dan bjek ekonomi
 - d. Objek material dan objek formal
 - e. Objek fisik dan objek material
2. Objek material terdapat 5 cakupan materi yang terdiri dari...
 - a. Lithosfer,atmosfer,hidrosfer,biosfer,pedosfer.
 - b. Lithosfer,atmosfer,hidsfer,biosfer,pedosfer.
 - c. Lithosfer,atmosfer,hidrosfer,sosiosfer,antroposfer.
 - d. Geosfer,atmosfer,hidrosfer,biosfer,antroposfer.
 - e. Lithosfer,geosfer,atmosfer,biosfer
3. Perubahan iklim mengancam kelangsungan hidup beruang kutub .populasi beruang kutub kemungkinan besar berkurang lebih dari 30%.Uraian tersebut menunjukkan fenomena geosfer sebagai bagian objek material geografi yaitu...
 - a. Atmosfer dan antroposfer
 - b. Atmosfer dan biosfer
 - c. Biosfer dan lithosfer
 - d. Lithosfer dan hisdrosfer
 - e. Biosfer dan antroposfer

4. Fenomena pada gambar di samping ini ,dipelajari pada objek material geografi ,yaitu...











- a. Atmosfer
- b. Hidrosfer
- c. Antroposfer
- d. Biosnr
- e. pedosfer

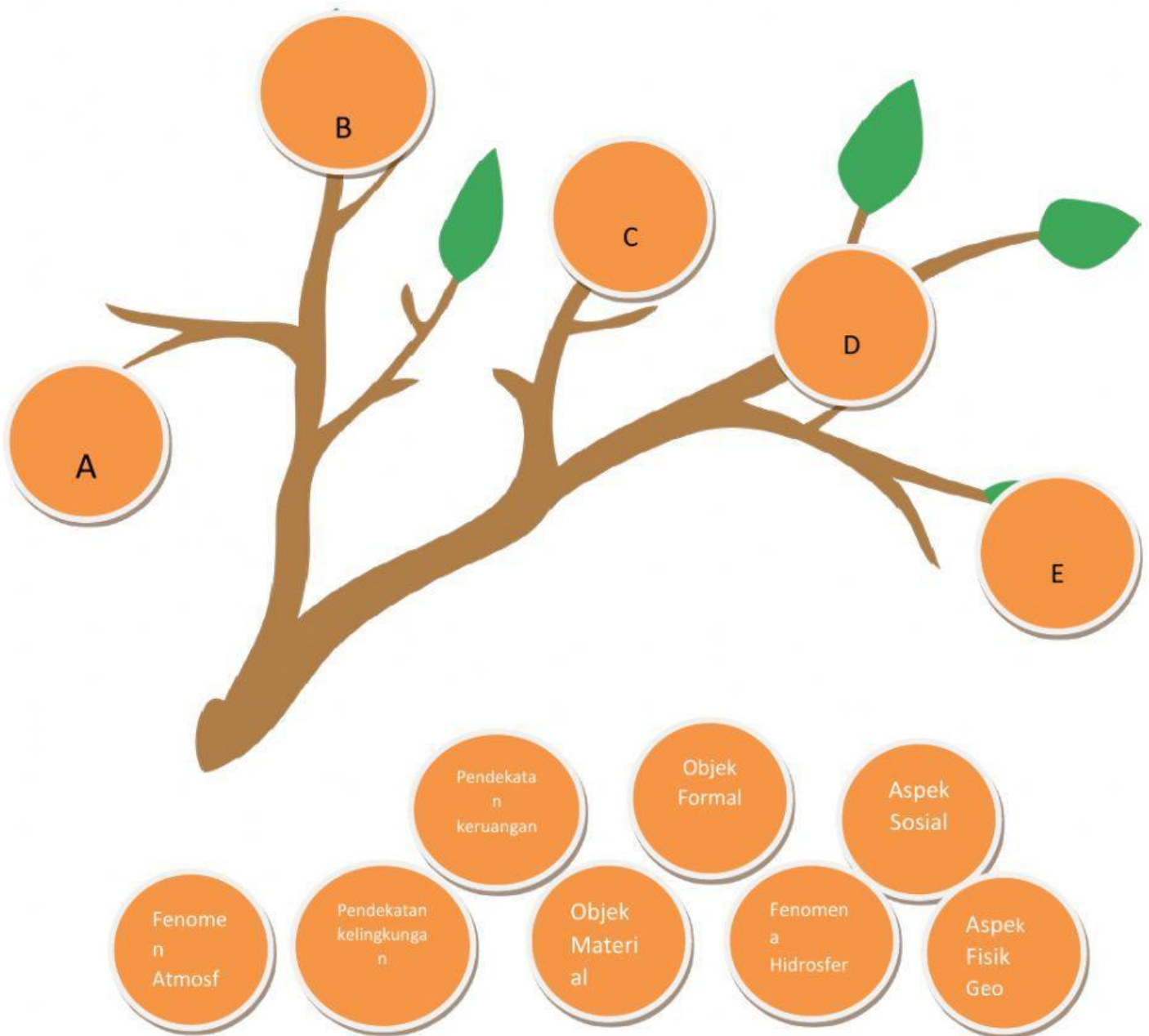


5. Kehidupan penduduk dapat dipengaruhi oleh kondisi alam di wilayah nya.Fenomena pada gambar di bawh ini merupakan satu contoh objek kajian geografi yaitu...



- a. Atmosfer
- b. Hidrosfer
- c. Antroposfer
- d. Biosnr
- e. pedosfer

| NO | PERNYATAAN | JAWABAN | KONSEP |
|----|--|--|-----------------------|
| 1 | pemukiman penduduk di wilayah pesisir memanjang mengikuti alur garis pantai. |  | LOKASI ABSOLUT |
| 2 | distribusi bahan pangan dari Kabupaten Pacitan ke Kota Malang lebih mudah daripada distribusi bahan pangan ke Kabupaten Gunung Kidul. |  | LOKASI RELATIF |
| 3 | bentuk dataran dengan kemiringan tidak lebih dari 5 derajat adalah wilayah yang cocok digunakan untuk pemukiman dan usaha pertanian maupun usaha-usaha yang lain. |  | JARAK RELATIF |
| 4 | Warga kota membutuhkan makanan dari desa, sedangkan warga desa membutuhkan teknologi dari kota. Kedua interaksi ini didasarkan atas pemenuhan kebutuhan warganya. |  | KETERKAITAN KERUANGAN |
| 5 | Daerah hilir mengalami banjir karena pembangunan yang terjadi di daerah hulu. Hutan di daerah hulu yang menjadi sarana resapan air hujan tidak mampu menampung air tersebut. Dampaknya adalah air langsung mengalir di hilir dan terjadi luapan air atau banjir. |  | MORFOLOGI |
| 6 | pantai dengan ombak yang tinggi, seperti pantai di Pulau Nias dan Mentawai, sangat cocok untuk destinasi wisata selancar. |  | POLA |
| 7 | jarak Bandung - Pekanbaru dengan pesawat dapat ditempuh dalam waktu 1,5 jam. |  | KETERJANGKAUAN |
| 8 | letak SMAN 2 Pandeglang ada di sebelah kanan jalan. |  | AGLOMERASI |
| 9 | kecenderungan pengelompokan tempat tinggal di kota bagi masyarakat yang berasal dari daerah yang sama seperti fenomena kampung madura, kampung betawi, dan kampung-kampung lainnya. |  | INTERAKSI |
| 10 | letak astronomis Indonesia pada 6°LU-11°LS dan 95°BT-141°BT. |  | NILAI KEGUNAAN |



Pasangkanlah pertanyaan di bawah ini, pada gambar pohon di atas

- A. Aspek yang berkaitan dengan erosi atau tanah longsor yang terjadi pada wilayah yang memiliki kemiringan lereng tinggi dan curah hujan yang tinggi.
- B. aspek yang berkaitan dengan unsur-unsur sosial. Misalnya adat istiadat, komunitas, tradisi, lembaga sosial, dan kelompok masyarakat.
- C. semua fenomena yang terdapat dan terjadi di geosfer, meliputi litosfer, hidrosfer, atmosfer, biosfer, dan antroposfer.
- D. Sebidang tanah memiliki harga yang mahal sebab karena tanahnya subur dan berada di tempat yang strategis. Kita dapat menilai bahwa nilai tanah tersebut didasarkan pada produktivitas pertanian dan nilai ruangnya yaitu lokasi strategis. hal ini berkaitan dengan pendekatan...
- E. Petani sawah memanfaatkan air hujan sebagai sumber air bagi sawahnya, sehingga akan memulai masa tanam pada saat musim penghujan. Pernyataan ini berkaitan dengan fenomena geosfer...