

## NUMERACIÓN

1. Escribe con número y con letra el número que se indica.



35

Treinta y cinco.



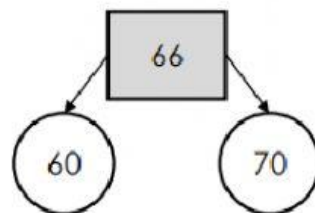
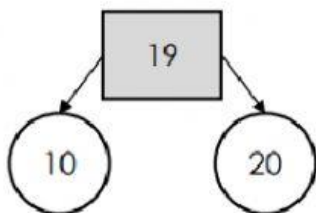
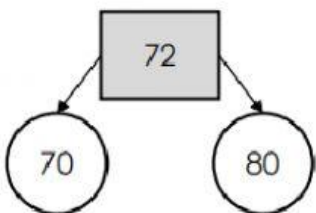
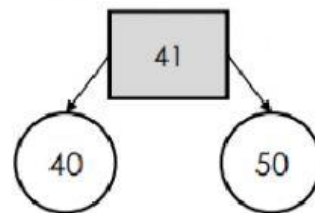
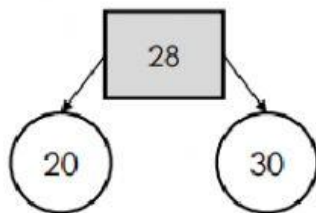
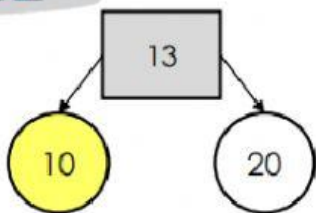
2. Ordena los números anteriores de mayor a menor.

\_\_\_ > \_\_\_ > \_\_\_ > \_\_\_ > \_\_\_

3. Descomposición

DESCOMPOSICIÓN	D	U	NÚMERO
4D 7U	4	7	$40 + 7 = 47$
3D 15U	3	15	$30 + 15 = 45$
2D 26U			
5D 47U			
	3	9	

4. Pincha en la decena más próxima. Ejemplo. El número 13 ¿de qué decena estás más cerca del 10 o 20? Podéis utilizar la centena cuadrada.



5. Mira la clave y resuelve

Calcula los números de las estrellas según las claves:

| → avanza 1

○ → avanza 10



8 ○ ○ | | | | ○ ○ ○

7 ○ ○ ○ | | ○ ○ ○

11 ○ | | | | | | ○ ○ ○ ○

15 ○ | | | | | | | | ○ ○ ○

5 ○ | | ○ | | | | ○ ○ ○

14 ○ ○ | | | | | | | | ○ ○

6. Sigue la serie:

18- 20- 22- \_\_\_\_ - \_\_\_\_ - \_\_\_\_ - \_\_\_\_ - \_\_\_\_ - \_\_\_\_ - \_\_\_\_ - \_\_\_\_ - \_\_\_\_ - 44

40- 44- 48- \_\_\_\_ - \_\_\_\_ - \_\_\_\_ - \_\_\_\_ - \_\_\_\_ - \_\_\_\_ - \_\_\_\_ - \_\_\_\_ - \_\_\_\_ - 92

100- 95 -90- \_\_\_\_ - \_\_\_\_ - \_\_\_\_ - \_\_\_\_ - \_\_\_\_ - \_\_\_\_ - \_\_\_\_ - \_\_\_\_ - \_\_\_\_ - 35

100-90-80- \_\_\_\_ - \_\_\_\_ - \_\_\_\_ - \_\_\_\_ - \_\_\_\_ - \_\_\_\_ - \_\_\_\_ - 0