


1.- Juliana tiene una granja en Ica, región con la mayor producción de huevos en el Perú. Martín compró 9 cajas de huevos y recibió algunos huevos de regalo.



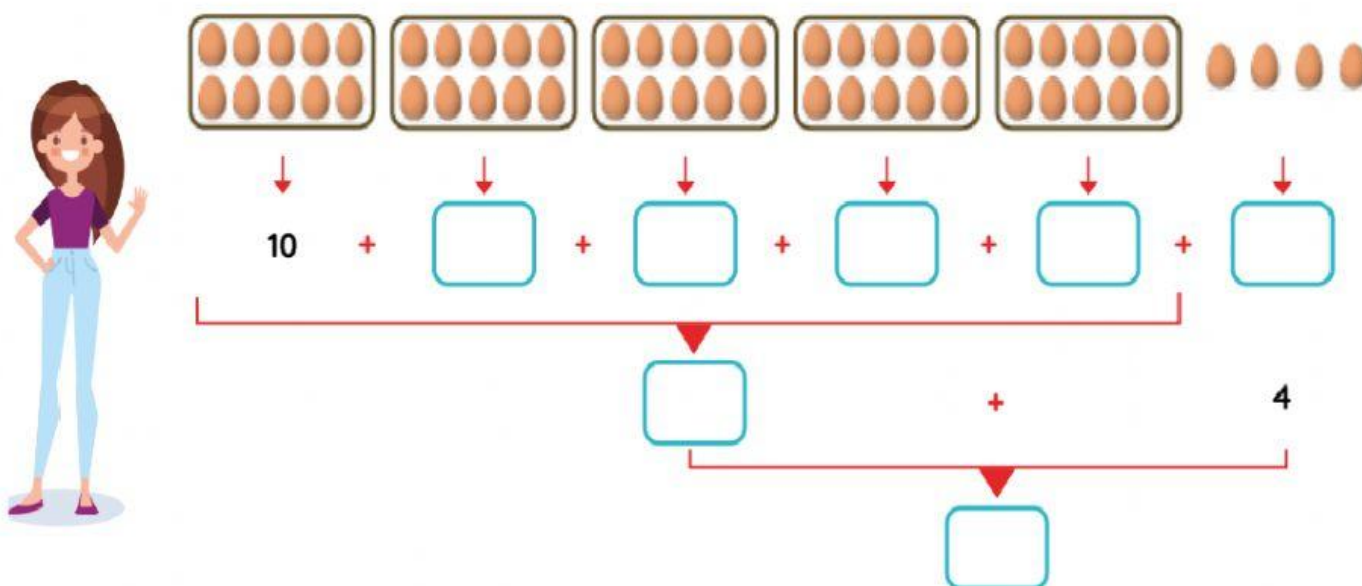
Escribe los números que corresponden para completar las afirmaciones.

Martín recibió  decenas y  unidades de huevos.

Martín recibió  unidades de huevos.

2.- Juliana tiene una granja en Ica, región con la mayor producción de huevos en el Perú. Ana compró varias cajas de huevos y le dieron algunos huevos de regalo.

Escribe los números que corresponden para calcular la cantidad de huevos que llevó Ana.



Relaciona los números que corresponde:

29

7D + 2U

30

8U + 9D

98

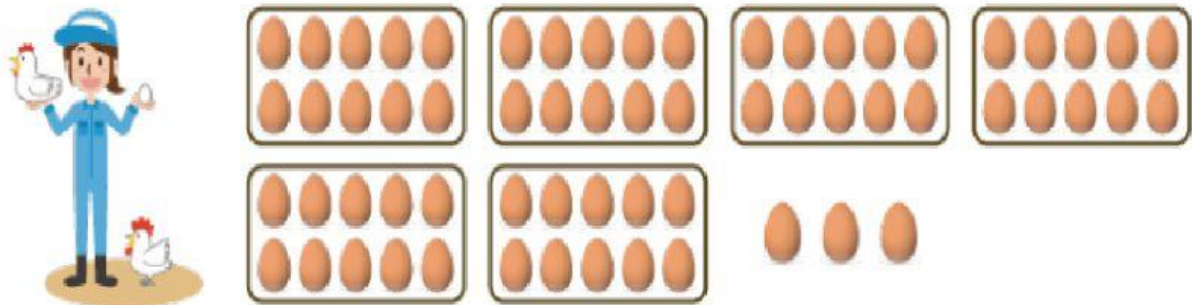
29U

72

3D

Juliana tiene una granja en Ica, región con la mayor producción de huevos en el Perú.

Juliana coloca una cantidad de huevos en cajas de 10 unidades.



Elige la afirmación correcta.

Juliana llenó 5 cajas y le quedaron 8 huevos.

Juliana llenó 6 cajas y le quedaron 3 huevos.

Juliana llenó 12 cajas y le quedaron 3 huevos.