



EVALUACIÓN BIMESTRAL DE MATEMÁTICA

Hijo(a) del Rey: _____

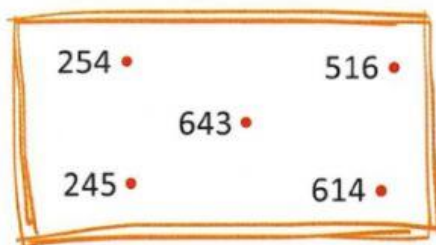
Grado: 2° Grado

Profesora : Cindy Condor Moreno

Fecha: 25/07/22

1. De cada diagrama escoge el mayor y el menor número y halla su suma.

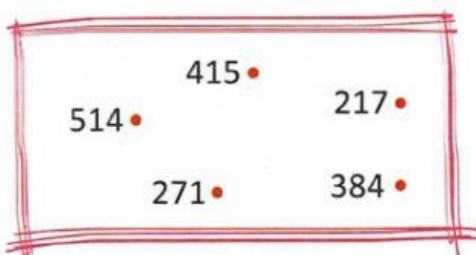
a.



Mayor número: +

Menor número:


b.



Mayor número: +

Menor número:

c.



Mayor número: +

Menor número:

2. De cada diagrama escoge el mayor y el menor número y halla su diferencia.

a.



Mayor número: -

Menor número:

b.



Mayor número: -

Menor número:



Hijos del Rey
I.E.P.

Yo Soy Jesús

Una educación en valores formando el carácter del niño

3. Relaciona

3C, 4D y 3U

8C y 1U

9C, 9D y 9U

5C y 4D

7C, 2D y 5U

5C

999

500

343

540

801

725

4. Resuelve las siguientes operaciones

		6	2	8
x				3
<hr/>				

		3	4	9
x				4
<hr/>				

		3	5	7
x				3
<hr/>				

		2	5	3
x				4
<hr/>				

		6	2	4
x				5
<hr/>				

		7	1	5
x				4
<hr/>				

SOY UN ESTUDIANTE ESFORZADO Y VALIENTE