




## EXAMEN BIMESTRAL

Curso: Raz Matemática Grado: \_\_\_\_\_ Nota: \_\_\_\_\_

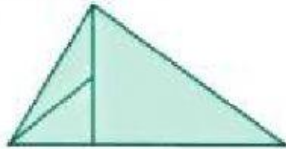
Nombres: \_\_\_\_\_



Docente Responsable: Débora Pérez G.

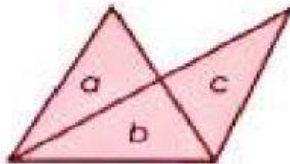
Fecha: 25/07/22

1. Calcula el número de triángulos en la siguiente figura y marca la respuesta correcta:



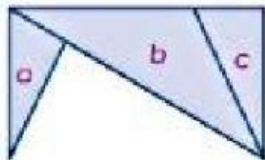
- a) 6                      b) 4                      c) 5                      d) 7

2. Calcula el número de triángulos en la siguiente figura y marca la respuesta correcta:



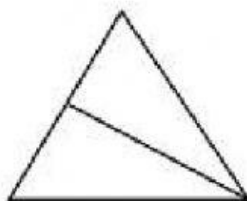
- a) 6                      b) 3                      c) 7                      d) 5

- b) Calcula el número de triángulos en la siguiente figura y marca la respuesta correcta:



- a) 4                      b) 3                      c) 7                      d) 5

- c) Calcula el número de triángulos en la siguiente figura y marca la respuesta correcta:



- a) 7                      b) 3                      c) 4                      d) 5