

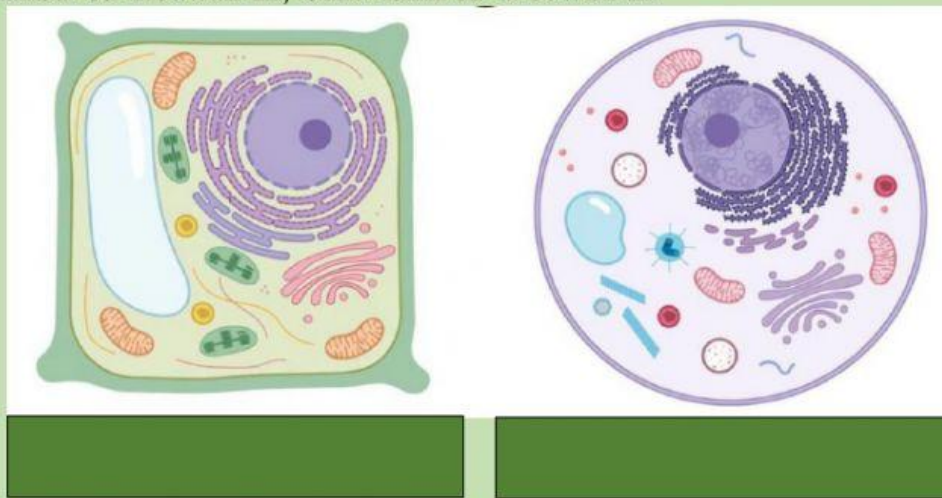
LEMBAR KERJA PESERTA DIDIK

SISTEM ORGANISASI KEHIDUPAN

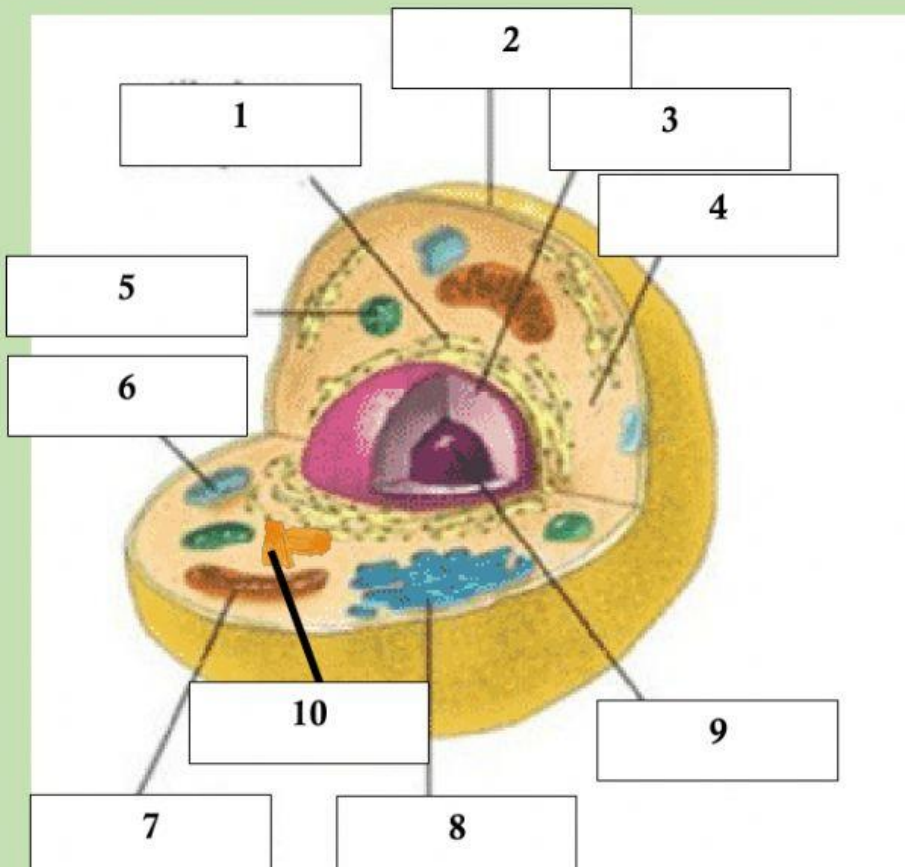
Sel Hewan dan Sel Tumbuhan

Kelas	:		
Kelompok	:		
Anggota Kelompok	:	1.	4.
		2.	5.
		3.	6.

1. Amatilah gambar sel dibawah ini, isilah nama sel di bawah ini



2. Drag and Drop nama organel sel berikut sesuai dengan gambarnya



SEL HEWAN

Mitokondria

Badan Golgi

Vakuola

Nukleolus

Membran Sel

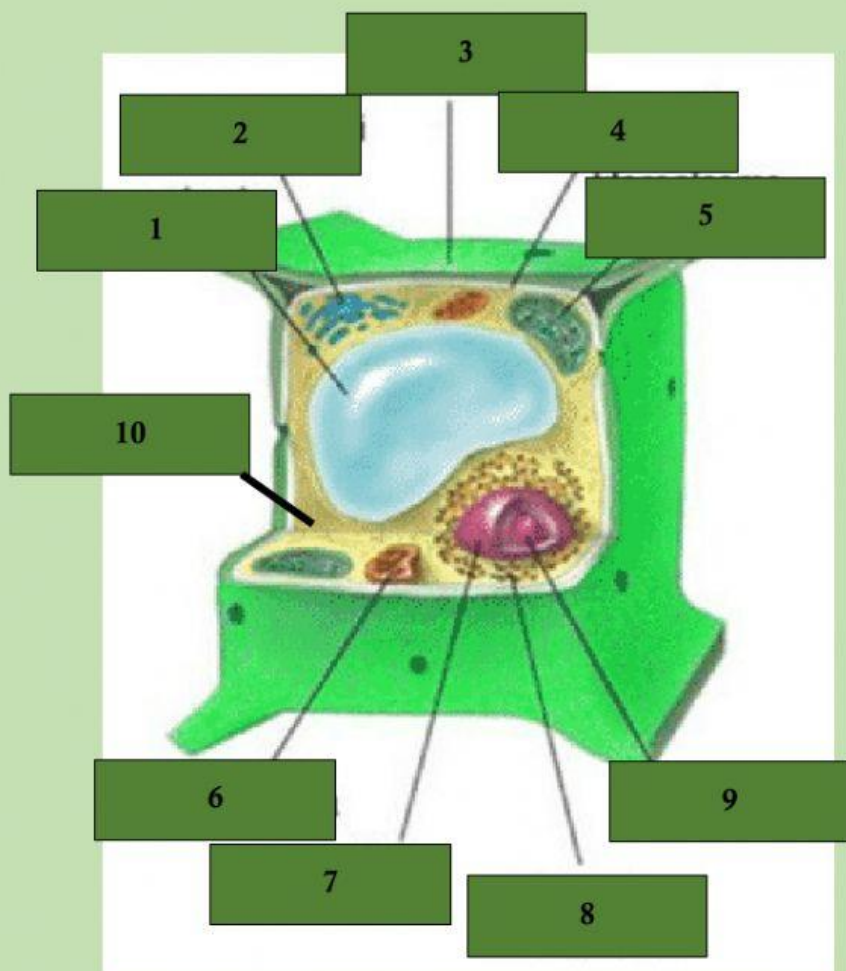
Sitoplasma

Nukleus

Retikulum Endoplasma

Lisosom

Sentriol



SEL HEWAN

Mitokondria	Badan Golgi
Vakuola	Nukleolus
Membran Sel	Sitoplasma
Nukleus	Retikulum Endoplasma
Dinding sel	Kloroplas

3. Lengkapi perbedaan antara sel hewan dan sel tumbuhan berikut ini

Dinding sel

Sentriol

Vakuola kecil

Kloroplas

Vakuola besar

Lisosom

