

Câu về hệ thống biển báo hiệu đường bộ (Phần 5)

Câu 429: Biển báo này có ý nghĩa gì? (Chọn câu trả lời đúng)

Biển báo này có ý nghĩa gì?



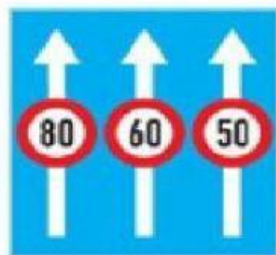
- 1- Báo hiệu khu vực nguy hiểm thường xuyên có sét đánh.
- 2- Báo hiệu khu vực có đường dây điện cắt ngang phía trên tuyến đường.



DAYLAIXEHANOI.VN

Câu 430: Biển nào báo hiệu các phương tiện phải đi đúng làn đường quy định và tuân thủ tốc độ tối đa cho phép? (Chọn câu trả lời đúng)

Biển nào báo hiệu các phương tiện phải đi đúng làn đường quy định và tuân thủ tốc độ tối đa cho phép?



Biển 1



Biển 2

- 1- Biển 1.
- 3- Cả hai biển.


2- Biển 2.



DAYLAIXEHANOI.VN

Câu 431: Biển nào báo hiệu các phương tiện phải tuân thủ tốc độ tối đa cho phép trên từng làn đường? (Chọn câu trả lời đúng)

Biển nào báo hiệu các phương tiện phải tuân thủ tốc độ tối đa cho phép trên từng làn đường?



Biển 1



Biển 2

- 1- Biển 1.
3- Cả hai biển.

- 2- Biển 2.



THAI VIỆT

DAYLAIXEHANOI.VN

Câu 432: Biển nào báo hiệu “Đường dành cho ô tô”? (Chọn câu trả lời đúng)

Biển nào báo hiệu “Đường dành cho xe ô tô”?



Biển 1



Biển 2

- 1- Biển 1.

- 2- Biển 2.



THAI VIỆT

DAYLAIXEHANOI.VN

Câu 433: Biển nào báo hiệu “Hết đường dành cho ô tô”? (Chọn câu trả lời đúng)

Biển nào báo hiệu “Hết đoạn đường dành cho xe ô tô”?



Biển 1



Biển 2

1- Biển 1.

2- Biển 2.



DAYLAIXEHANOI.VN

Câu 434: Khi gặp biển nào thì các phương tiện không được đi vào, trừ ô tô và mô tô? (Chọn câu trả lời đúng)

Khi gặp biển nào thì các phương tiện không được đi vào, trừ ô tô và mô tô?



Biển 1



Biển 2

1- Biển 1.


2- Biển 2.



DAYLAIXEHANOI.VN

Câu 435: Biển này có ý nghĩa gì? (Chọn câu trả lời đúng)

Biển này có ý nghĩa gì?



- 1- Chỉ hướng đi phải theo.
- 2- Biển báo hiệu cho người lái xe biết số lượng làn đường trên mặt đường và hướng đi trên mỗi làn đường phải theo.
- 3- Chỉ hướng đường phải theo.



DAYLAIXEHANOI.VN

Câu 436: Biển nào (đặt trước ngã ba, ngã tư) cho phép xe được rẽ sang hướng khác? (Chọn câu trả lời đúng)

Biển nào (đặt trước ngã ba, ngã tư) cho phép xe được rẽ sang hướng khác?



Biển 1



Biển 2

- 1- Biển 1.
- 2- Biển 2.
- 3- Không biển nào.



DAYLAIXEHANOI.VN

Câu 437: Biển nào báo hiệu “Hướng đi thẳng phải theo” ? (Chọn câu trả lời đúng)

Biển nào báo hiệu “Hướng đi thẳng phải theo” ?



Biển 1



Biển 2

1- Biển 1.

2- Biển 2.



DAYLAIXEHANOI.VN

Câu 438: Biển nào báo hiệu “Đường một chiều” ? (Chọn câu trả lời đúng)

Biển nào báo hiệu “Đường một chiều”?



Biển 1



Biển 2

1- Biển 1.

2- Biển 2.

3- Cả hai biển.



DAYLAIXEHANOI.VN

Câu 439: Trong các biển dưới đây biển nào là biển “Hết hạn chế tốc độ tối đa”?
(Chọn câu trả lời đúng)

Trong các biển dưới đây biển nào là biển “Hết tốc độ tối đa cho phép”?



Biển 1



Biển 2



Biển 3

1- Biển 1.

2- Biển 2.

3- Biển 3.

4- Cả ba biển.



DAYLAIXEHANOI.VN

Câu 440: Biển nào dưới đây hết hạn chế tốc độ tối đa? (Chọn câu trả lời đúng)

Hiệu lực của biển “Tốc độ tối đa cho phép” hết tác dụng khi gặp biển nào dưới đây?



Biển 1



Biển 2



Biển 3

1- Biển 1.

2- Biển 2.

3- Biển 3.

4- Biển 1 và 2.



DAYLAIXEHANOI.VN