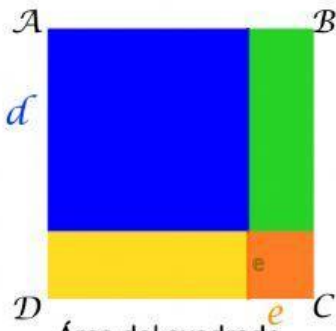



Observa con cuidado las figuras y coloca en los casilleros la expresión algebraica que consideras describe el área solicitada. Para ello, toma con el cursor la expresión algebraica y arrástrala a la casilla correspondiente. En algunos casos podrás rellenar las dos casillas preparadas y en otros casos una casilla quedará vacía.

$$y^2 - yz \quad (d + e)^2 \quad x^2 + ax + a^2 \quad y(y - z) \quad d^2 + de + e^2 \quad x^2 + a^2$$

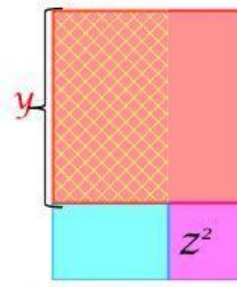
$$d^2 + e^2 \quad x^2 + 2ax + a^2 \quad y^2 - z^2 \quad d^2 + 2de + e^2 \quad (y - z)^2 \quad y^2 - 2yz + z^2$$



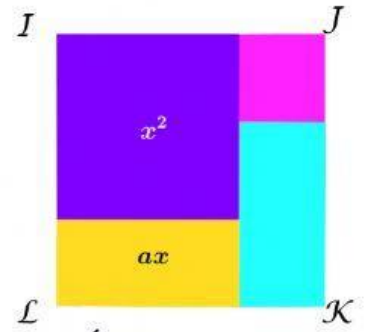
Área del cuadrado $ABCD$ es:



Área rayada es:



Área cuadriculada es:



Área del cuadrado $IJKL$ es: