

1. Completa las frases.

Una hora son _____ minutos.

Un día son _____ horas.

Media hora son _____ minutos.

Un cuarto de hora son _____ minutos.

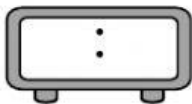
En una hora la aguja _____ da una vuelta completa.

2. Escribe la hora que marca cada reloj

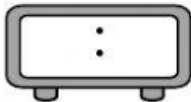


3. Escribe la hora indicada.

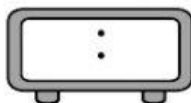
Las ocho y diez de la mañana.



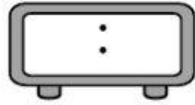
Las diez y cuarto de la noche.



Las once y media de la mañana.



Las cinco y veinte de la tarde.



4. Completa

4 horas = _____ minutos

5 horas = _____ minutos

6 minutos = _____ segundos

3 horas y 12 minutos = _____ minutos

7 horas y 5 minutos = _____ minutos

8 minutos y 35 segundos = _____ segundos

5 minutos y 4 segundos = _____ segundos

5. La clase de Matemáticas de 3.º de Primaria comienza a las 11 y cuarto de la mañana y termina a las 12 de la mañana. ¿Cuánto tiempo dura la clase?

6. El autobús a Carrasquilla sale a las 3 y veinte y tarda 1 hora y media en llegar. Hoy ha salido con cinco minutos de retraso. ¿A qué hora ha llegado a Carrasquilla?