

UNIDAD EDUCATIVA BENJAMÍN FRANKLIN

TAREA - 2DO PARCIAL - 1ER QUIMESTRE






Name: _____ Date: 17 - 07 - 2022
 Subject: Matemática Teacher: Miss Ainee Olvera G.
 Course: Segundo de Básica

1. Marca quienes tienen una decena.

	Raúl		<input type="checkbox"/>
	Diana		<input type="checkbox"/>
	Renzo		<input type="checkbox"/>
	Lucía		<input type="checkbox"/>
	Marco		<input type="checkbox"/>

2. Cuenta y escribe el número ordenando en el tablero posicional

	<table border="1"> <tr> <td></td> <td></td> </tr> <tr> <td>Decenas</td> <td>Unidades</td> </tr> </table>			Decenas	Unidades
Decenas	Unidades				
	<table border="1"> <tr> <td></td> <td></td> </tr> <tr> <td>Decenas</td> <td>Unidades</td> </tr> </table>			Decenas	Unidades
Decenas	Unidades				
	<table border="1"> <tr> <td></td> <td></td> </tr> <tr> <td>Decenas</td> <td>Unidades</td> </tr> </table>			Decenas	Unidades
Decenas	Unidades				