



EJERCICIO FRACCIONES PROPIAS, IMPROPIAS Y MIXTAS

NOMBRE: _____ GRUPO: _____

Observa el siguiente video con mucha atención.



1. ¿Qué son las fracciones?

- a) Las fracciones son números que representan la parte de un entero que está dividido en partes iguales
- b) Las fracciones son enteros que dividimos y reunimos para formar otros enteros.
- c) Son números enteros que partimos en muchas partes para poderlos repartir sin importar el número de partes.

2. Elige las que sean fracciones impropias:

$$\frac{1}{2}$$

$$\frac{2}{3}$$

$$\frac{2}{2}$$

$$\frac{8}{8}$$

3. Une las fracciones con su tipo:

PROPIA	IMPROPIA	MIXTA
---------------	-----------------	--------------

$$\frac{1}{5}$$

$$2\frac{1}{4}$$

$$\frac{5}{3}$$

3. Une los conceptos con su descripción:

NUMERADOR

Número de partes que tomamos de un entero que hemos dividido

DENOMINADOR

Partes en que dividimos un entero

FRACCIONES

Son números que representan la parte de un entero que ha sido dividido en partes iguales

4. Elige si la respuesta es verdadera o falsa:

	VERDADERA	FALSA
Las partes de una fracción son: - Numerador - Denominador - División		

5. Une las fracciones impropias con su fracción mixta:

$$2\frac{1}{4}$$

$$2\frac{1}{2}$$



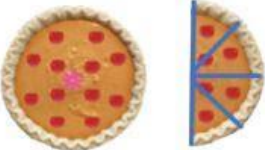
$$1\frac{2}{8}$$


$$\frac{10}{8}$$

$$\frac{9}{4}$$

$$\frac{5}{2}$$

6. Escribe Propia, impropia o mixta según corresponda:

NO OLVIDES ELEGIR EL CUADRO AZUL
 Terminado
 QUE SE ENCUENTRA AL FINAL DE ESTA PÁGINA
 Y DA CLIC EN  PARA VER TU CALIFICACIÓN
 QUE APARECERÁ AL PRINCIPIO DEL EJERCICIO