

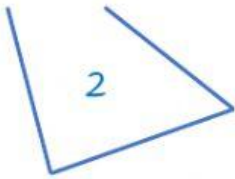
Linee e poligoni

Clicca sulla risposta giusta per completare la frase.




La figura è formata da una linea

spezzata chiusa
mista chiusa
curva chiusa




La figura è formata da una linea

spezzata aperta
curva chiusa
mista aperta



La figura è formata da una linea

curva chiusa
spezzata chiusa
mista chiusa



La figura è formata da una linea

curva chiusa
spezzata chiusa
mista chiusa

Soltanto la figura n° é un poligono perché è formata da una

.....

Per ogni figura scrivi all'interno se è un poligono (P) o un non poligono (NP).

