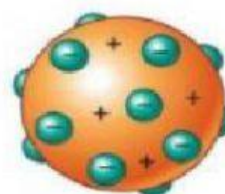
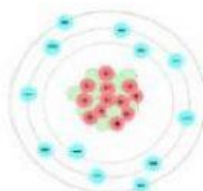
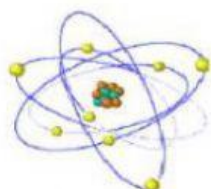


ACTIVIDAD EN CLASE

Nombre:

Curso:

1. Relacione el modelo atómico con el científico que lo descubrió



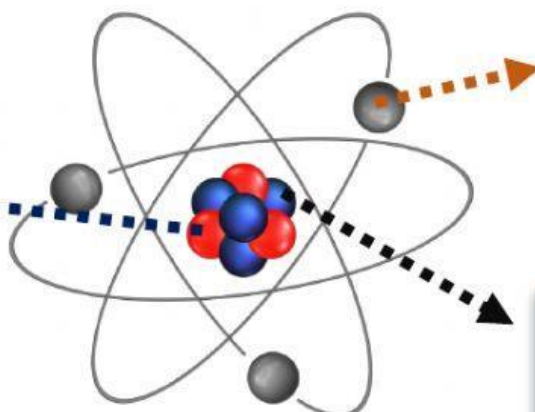
Thomson

Rutherford

Dalton

Bohr

2. Indica el nombre de cada parte del átomo



3. Seleccione verdadero o falso según el enunciado corresponda

- a) El átomo es la partícula más pequeña de la materia
- b) El átomo se divide en dos: Electrones y capas
- c) Los protones tienen carga positiva
- d) Los neutrones no tienen carga
- e) Los electrones tienen carga positiva y negativa

4. Complete la tabla

Positiva

Si

Neutrones

Negativa

Neutra

Partículas subatómicas	Tienen carga	¿Tiene masa?
Protones		
Electrones		Si
		Si