


Une cada figura con su nombre y silencio



CORCHEA



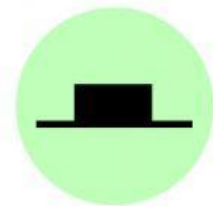
REDONDA



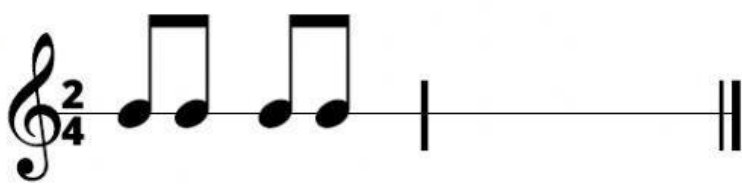
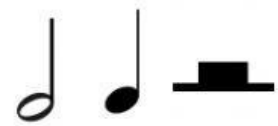
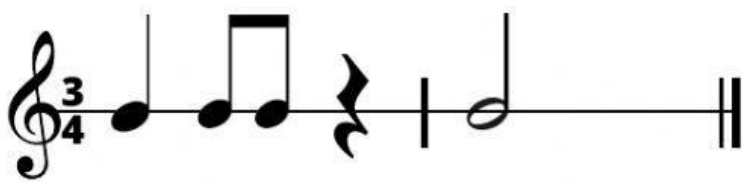
NEGRA



BLANCA



¿Qué figura falta en el compás?



# Sumas musicales

Si tienes que escribir mitades fíjate en el primer ejemplo para hacerlas igual en todas

$$\text{Cuarto} + \text{Cuarto} = \boxed{2 \text{ y } 1/2}$$

$$\text{Cuarto} + \text{Cuarto} = \boxed{\phantom{2 \text{ y } 1/2}}$$

$$\text{Cuarto} + \text{Cuarto} = \boxed{\phantom{2 \text{ y } 1/2}}$$

$$\text{Medio} + \text{Cuarto} = \boxed{\phantom{2 \text{ y } 1/2}}$$

$$\text{Cuarto} + \text{Medio} = \boxed{\phantom{2 \text{ y } 1/2}}$$

$$\text{Cuarto} + \text{Medio} + \text{Cuarto} + \text{Cuarto} = \boxed{\phantom{2 \text{ y } 1/2}}$$

$$\text{Cuarto} + \text{Cuarto} + \text{Cuarto} + \text{Cuarto} + \text{Cuarto} = \boxed{\phantom{2 \text{ y } 1/2}}$$