

# LEMBAR KERJA PESERTA DIDIK STRUKTUR DAN FUNGSI ORGANEL SEL

Nama :

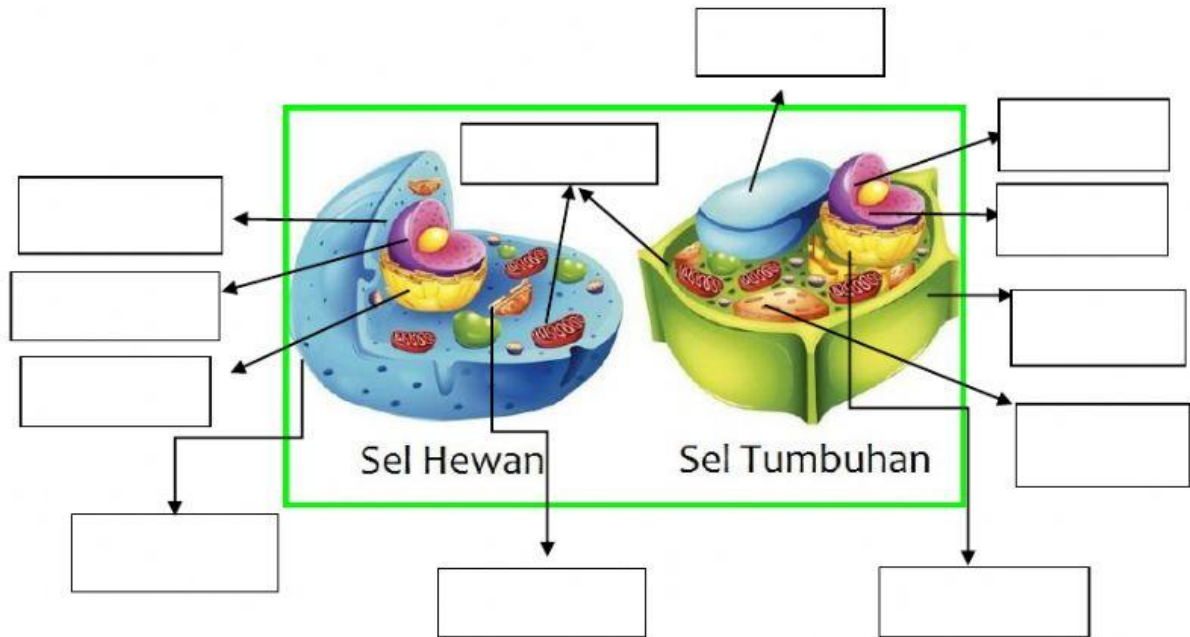
Kelas :

## A. Tujuan

Melalui literasi, siswa dapat Mengidentifikasi struktur dan fungsi organel sel dengan baik

## B. Petunjuk

- Berilah nama pada bagian organel-organel yang diberi anak panah pada gambar !



- Tarik nama organel sesuai dengan organel penyusun selnya !

Sel Hewan

Sel Tumbuhan

Organel





Kloroplas











Sentrosom

Dinding Sel

Vakuola kecil

**LEMBAR KERJA PESERTA DIDIK**  
**STRUKTUR DAN FUNGSI ORGANEL SEL**

3. Cocokkanlah fungsi dari masing-masing organel berikut !

Ribosom			Pengasil energi/produksi ATP
Badab Golgi			Pengendali semua proses/aktivitas pada sel
Mitokondria			Tempat sintesis Protein
Kloroplas			Menyimpan hasil sekresi
Inti sel			Tempat berlangsungnya proses fotosintesis